



**PM-SP: SOLDADO**

# **SIMULADOS**

**FOCADO NO PÓS-EDITAL DA BANCA VUNESP**

**AMOSTRA GRATUITA**

**Q2**

**PACOTE COMPLETO COM 50%OFF: [CLIQUE AQUI!](#)**

## APRESENTAÇÃO

---

Fala, Futuro(a) Soldado da PM-SP! Tudo bem?

Seja bem-vindo a nossa **AMOSTRA GRATUITA** focada no pós-edital da banca **VUNESP** para o concurso da PM-SP.

### **VEJA ABAIXO COMO FUNCIONA NOSSO PACOTE DE SIMULADOS COMPLETO:**

No total serão 4 simulados com questões de **ALTA RELEVÂNCIA** que poderão cair na sua prova. Os simulados vão envolver as matérias de **Português, Informática, Direito Constitucional, Legislação Específica, Matemática, Geografia Geral e do Brasil, História Geral e do Brasil.**

### **PONTOS IMPORTANTES DO PACOTE DE SIMULADOS:**

- Cada simulado terá **60 questões** e o comentário de cada questão disponível no final do simulado!
- No total são **quatro simulados**, no **módulo 1** vão estar **liberados os 4 simulados** para você gabaritar!

Bons estudos e aproveite bastante a sua **AMOSTRA!** Temos certeza de que será uma ferramenta de **grande efetividade!**

Vamos Quebrar tudo!

Equipe **Quebrando Questões.**

## Simulado 01: PM-SP (Soldado)

### PORTUGUÊS

#### 1) Leia a tira para responder à questão.



(André Dahmer. *Não há nada acontecendo*. www1.folha.uol.com.br. 10.07.2023)

Considere os trechos:

– Veja com seus próprios olhos (2º quadro) – Pode até divertir algum desavisado (4º quadro)

Os vocábulos em destaque expressam, no contexto em que foram empregados, respectivamente, sentido de

- A) convite e retratação.
- B) constatação e vontade.
- C) ordem e possibilidade.
- D) observação e permissão.
- E) advertência e intenção.

#### 2) Leia o texto para responder à questão.

Para conseguir lidar com o luto pela perda precoce da mãe, aos 10 anos, o japonês Takeo Sawada (1917-2004) começou a pintar. Ganhou um kit de desenho do pai, na cidade de Yuki, a 100 quilômetros de Tóquio. Participou de duas exposições e, aos 12 anos, conquistou o Prêmio Imperial do governador da província de Ibaraki. Contudo, com a promessa de uma vida melhor, decidiu emigrar para o Brasil, então com 16 anos de idade, e seguir os passos dos familiares que se estabeleceram em Rancharia, no oeste paulista.

Sem conhecer a língua portuguesa e os costumes do país, teve ajuda de um tio comerciante e trabalhou em plantações de café e algodão. Sua sensibilidade artística foi aguçada pelos elementos da natureza, e uma árvore frondosa de flores vermelhas foi a que mais chamou sua atenção: o flamboyant. Sawada

gostava de admirá-la, pintá-la e fotografá-la pela cidade, num convite à contemplação.

Na década de 1970, fundou um curso de artes visuais para crianças. Ao longo de três décadas, cerca de 4 mil alunos — incluindo adultos — tiveram aulas com o sensei [mestre ou professor], que se tornou referência em arte-educação. “Frequentei as aulas de Sawada em 1987, aos 25 anos. Lembro-me de sua voz tranquila, dos óculos pendurados por um cordão e de muitos pincéis e lápis no bolso da camisa”, recorda-se a artista visual Carmo Malacrida, uma das curadoras da exposição “À Sombra do Flamboyant: Takeo Sawada”, em cartaz no Sesc Registro.

As aulas do artista incluíam desde passeios ao ar livre a exercícios de técnicas de desenho e pintura no ateliê. Em entrevista a um canal de televisão, o próprio artista definiu sua atuação: “Ensinar criança não é para criar artista, é para formar uma boa pessoa, uma pessoa de paz, de boa índole, que possa se dedicar ao Brasil, à sociedade”. Inspirada pelo mestre, Carmo dá aulas de artes para crianças há 22 anos, e diz que aprendeu com ele a ver o mundo de forma poética. “Ele nos preparava para a vida, queria que criássemos livremente. Dizia para não termos medo do vazio do papel, que na folha grande há muito espaço para desenhar e pintar”, conta.

(Luna D’Alama. *Da cerejeira ao flamboyant*. Revista E, maio de 2023. Adaptado)

Um sinônimo de “aguçada”, no contexto em que o vocábulo foi empregado no 2º parágrafo, é

- A) aplicada.
- B) esforçada.
- C) interessada.
- D) apurada.
- E) corrompida.

#### 3) Leia a tira para responder à questão.



(Fernando Gonsales. *Níquel náusea: um tigre, dois tigres, três tigres*. São Paulo: Devir, 2009)

A respeito do sonho mencionado na tira, é correto afirmar que

- A) o seu conteúdo é impossível de ser deduzido, já que nem o próprio rato que sonhou sabe explicá-lo.
- B) a sua forma é comum a outros sonhos e, por isso, já é conhecida pelo rato que deveria ouvir o relato.
- C) a confusão sobre as pessoas e os lugares faz com que o sonho se assemelhe a uma realidade vivida.
- D) a descrição de sua forma não coincide com o que foi sonhado e, por isso, o rato que iria contar o sonho perde o interesse em fazê-lo.
- E) a riqueza de detalhes com que o sonho é descrito prova que o rato já tinha ouvido esse mesmo sonho anteriormente.

## Simulado 01: PM-SP (Soldado)

### 4) Leia o texto para responder à questão.

#### Prece

Senhor Bom Jesus do Calvário e da Via-Sacra  
O prefeito Henriquinho  
Vai derrubar o teu templo da Rua Uruguiana  
Para abrir uma avenida!

Senhor Bom Jesus do Calvário e da Via-Sacra  
O prefeito Henriquinho  
Para abrir uma avenida  
Vai demolir o templo do santo  
Pedra da fé  
Sobre a qual edificaste a tua Igreja!

Senhor Bom Jesus do Calvário e da Via-Sacra  
Quando o prefeito morrer  
Não o mandes para o Inferno:  
Ele não sabe o que faz.  
Mas um seculozinho a mais de Purgatório  
Não seria mau. Amém.  
(Manuel Bandeira. As cidades e as musas)

A primeira e a segunda estrofes terminam com ponto de exclamação, que reforça a ideia de

- A) indiferença.
- B) auspício.
- C) contradição.
- D) ambiguidade.
- E) indignação.

### 5) Leia o texto para responder à questão.

O amor supera o calendário

Convidada por amigas para posar sem roupa para um calendário beneficente, dona Isadora hesitou muito. Educada numa tradição de severo moralismo, desaprovava fotos desse tipo, que considerava baixaria. Além disso, aos setenta anos, não era exatamente um modelo desses que desfilam em passarela, embora conservasse ainda muitos traços de sua passada beleza e tivesse, graças à ginástica diária e a uma dieta controlada, um corpo até razoável para a idade.

De outro lado, a causa era boa; tratava-se de ajudar um hospital especializado em câncer infantil, que precisava de muito dinheiro. Essa campanha, para ela, era inusitada. O certo é que ninguém a recriaria por sua atitude. O marido, um homem de rígida moral, falecera há muitos anos. Resolveu ir em frente, e no dia estava ela, sem roupa, mas atrás de flores, posando para um fotógrafo. A princípio sentiu-se constrangida, mas lá pelas tantas estava até gostando.

O calendário foi um sucesso. Um dia, dona Isadora recebeu um telefonema. Do outro lado, uma voz masculina cumprimentava-a pela foto: – Vejo que você continua bela como sempre. Parabéns.

Era o Belmiro, seu primeiro namorado. Haviam se conhecido no bairro em que moravam e viveram uma tórrida paixão. Mas o pai dele, militar, levava a família

para o Norte, o que acabara por interromper o namoro. Por décadas não se tinham visto; agora, Belmiro, de volta à cidade, por acaso comprara o calendário e, pela saudade, resolvera telefonar. Como Isadora, estava viúvo; e, como ela, recordava com saudades os tempos de namoro.

Estão morando juntos e vivendo muito felizes. Belmiro só fez uma exigência: Isadora jamais posará para um calendário de novo.

(Moacyr Scliar, Histórias que os jornais não contam. L&PM Editores. Adaptado)  
Considere as passagens:

- Essa campanha, para ela, era inusitada. (2º parágrafo)
- A princípio sentiu-se constrangida... (2º parágrafo)

As palavras destacadas significam, correta e respectivamente:

- A) incomum e envergonhada.
- B) rara e temerosa.
- C) vulgar e inibida.
- D) estranha e amedrontada.
- E) excepcional e receosa.

### 6) Leia atentamente o a seguir:

Por causa de falta de acompanhamento médico, as mortes maternas aumentaram ou estagnaram em quase todas as regiões do mundo: em média, uma mulher morre durante a gravidez ou no parto a cada 2 minutos, de acordo com o relatório da Organização Mundial da Saúde (OMS) “Tendências na mortalidade materna”, divulgado em fevereiro. O total das mulheres grávidas que não fazem nem quatro dos oito exames recomendados durante a gravidez ou não recebem cuidados essenciais após o parto é de aproximadamente um terço delas, enquanto cerca de 270 milhões não têm acesso a métodos modernos de planejamento familiar. Em 2020, cerca de 70% de todas as mortes maternas ocorreram na África subsaariana, em razão de sangramento grave, pressão alta, infecções relacionadas à gravidez, complicações de aborto inseguro e doenças como HIV/Aids ou malária, que podem ser agravadas pela gravidez. No Chade, a taxa média de mortalidade é de 1063 mulheres para cada 100 mil nascidos vivos. Na Alemanha, de 5 para cada 100 mil.

(Pesquisa Fapesp. <https://revistapesquisa.fapesp.br>, Edição 326, abril de 2023. Adaptado)

Na frase final do texto – Na Alemanha, de 5 para cada 100 mil. –, a vírgula serve para separar a expressão adverbial de lugar e para indicar que há

- A) separação de termos em enumeração.
- B) retificação de informação prévia.
- C) informação implícita no enunciado.
- D) divergência entre os dados citados.

## Simulado 01: PM-SP (Soldado)

E) ambiguidade na exposição das ideias.

---

**7) Assinale a alternativa em que, na frase alterada, a posição da vírgula está em conformidade com a norma-padrão de pontuação.**

- A) O quanto esse ritmo, acelerado está nos fazendo bem, como sociedade, a longo prazo, podemos nos perguntar.  
B) Como sociedade podemos nos perguntar, o quanto esse ritmo acelerado, está nos fazendo bem, a longo prazo, sobretudo.  
C) Podemos nos perguntar, o quanto esse ritmo acelerado, como sociedade, está sobretudo a longo prazo, nos fazendo bem.  
D) Podemos nos perguntar, como sociedade, o quanto esse ritmo acelerado está nos fazendo bem, sobretudo a longo prazo.  
E) Sobretudo a longo prazo, como sociedade, podemos nos perguntar quanto, esse ritmo acelerado está nos fazendo bem.
- 

**8) Assinale a alternativa em que a frase está em conformidade com a norma-padrão de concordância verbal e nominal.**

- A) Torcemos para que muitos mais crianças tenham a oportunidade de usar o parquinho.  
B) Fomos nós que mandamos instalar o brinquedo, mas nós mesmo não os vimos ainda.  
C) Passamos esta manhã pela praça e pudemos acompanhar como está as reformas.  
D) Ocorreram avanços nas obras municipais, o que conferiram mais conforto ao povo.  
E) Devia haver mais parques na cidade que tivessem diversão para adultos e crianças.
- 

**9) Assinale a alternativa em que a frase está em conformidade com a norma-padrão de concordância da língua portuguesa.**

- A) Antigamente era popular instituições psiquiátricas que se valiam de tratamentos controversos.  
B) Muitas poucas pessoas saíam de um hospício curadas dos problemas que supostamente tinham.  
C) Hoje observa-se tratamentos humanizados de pessoas que necessitam de ajuda psiquiátrica.  
D) Foi reformulado pelo conhecido psiquiatra Franco da Rocha a assistência aos doentes mentais.  
E) Os métodos clínicos mudaram bastante com o aprofundamento dos estudos sobre a mente.
- 

**10) Na passagem – Aos oito anos os meus plurais careciam, alguma vez, da desinência exata, ele a corrigia, meio sério para dar autoridade à lição... –, a regência e o sentido das formas verbais destacadas mantêm-se inalterados, se elas forem substituídas, correta e respectivamente, por:**

- A) enfatizavam; arrumava; excluir.  
B) exigiam; divergia; estabelecer.  
C) dispensavam; alterava; coibir.  
D) precisavam; consertava; conferir.
- 

E) ocultavam; discordava; solicitar.

---

**11) Assinale a alternativa que atende à norma-padrão de concordância verbal.**

- A) As vendas de carros elétricos e híbridos aumentaram no Brasil, mas os preços desses veículos ainda mantêm poucos deles em circulação nas ruas do país.  
B) Os carros elétricos e híbridos disponíveis no mercado nacional vem contando com a isenção do imposto de importação, que a Anfavea quer ver revogado.  
C) No que diz respeito à matriz elétrica, o Brasil ocupa posição ímpar, pois dispõem de 82,9% da eletricidade oriunda de fontes renováveis.  
D) Cresceram as vendas chinesas de carros elétricos e híbridos: tratam-se de 82,9% de aumento em 2022, enquanto o mercado automotivo geral encolhia 5,3%.  
E) As fontes renováveis e a alta produção de etanol faz com que o Brasil tenha um enorme potencial para BEVs e PHEVs.
- 

**12) Assinale a alternativa que completa, correta e respectivamente, as lacunas do texto segundo a norma-padrão de regência e de emprego do artigo. Uma história pode ser contada \_\_\_\_ alguém que não necessariamente a testemunhou, e o sucesso que alcançará dependerá \_\_\_\_ quanto o autor conseguiu se envolver \_\_\_\_ que lhe foi relatado.**

- A) pelo ... a ... no  
B) por ... do ... com o  
C) a ... em ... de  
D) ao ... a ... o  
E) com ... de ... pelo
- 

**13) Assinale a alternativa que atende à norma-padrão de regência nominal e verbal.**

- A) A imposição a um modelo feminino veio sendo construído ao longo do tempo, visando pela dominância de um comportamento.  
B) A crítica que se faz às princesas suspirosas provavelmente se respalda no anseio das pessoas pela oposição a um comportamento.  
C) Os contos de fadas que nos referimos continuamente vieram em nossas vidas pela tradição, que a origem foge de nosso conhecimento.  
D) Educadores, pais, autores de antologias e editores são responsáveis das escolhas das histórias que hoje se fazem críticas.  
E) As pessoas têm a pretensão que os contos sejam atualizados e colocados em moldes, pois aspiram por limpeza ideológica.
- 

**14) A regência está em conformidade com a norma-padrão em:**

- A) Muitas pessoas têm dúvidas que os arranha-céus sejam um tipo de construção que a maioria dos cidadãos gosta.  
B) Quem é sensível à importância das casas antigas anseia na sua sobrevivência ante a propagação de arranha-céus.
-

## Simulado 01: PM-SP (Soldado)

C) Estariam as cidades aptas a receber tantos arranha-céus? Muitas pessoas discordam com essa perspectiva.

D) A beleza das casas coloridas se impõe a todos, e o tamanho dos arranha-céus não é capaz de ofuscá-las.

E) É preferível ter casas coloridas nas ruas do que arranha-céus, pois ninguém lembra das qualidades destes.

**15) A alternativa em que o pronome destacado deve estar necessariamente na posição em que foi colocado é:**

A) As ambições particulares se sobrepujam às carências coletivas...

B) Irritado com os críticos de arte a não lhe darem sossego...

C) ... Balzac apontou-lhes o dedo.

D) Ficção e agudo exame da sociedade mesclaram-se na obstinada defesa do bom jornalismo.

E) ... palavras do livro se articulam para escancarar hipocrisias, falsidades.

**16) Assinale a alternativa em que a colocação pronominal e a flexão verbal estão de acordo com a norma-padrão.**

A) Quem vir conhecer o lugar verá que criou-se uma avenida onde antes tinha-se um templo.

B) Se tudo se manter como o planejado, a avenida que se abrirá ficará no lugar do templo.

C) Quando se vir o lugar onde passa a avenida, certamente se sentirá a falta do templo ali.

D) Ninguém entrevistou e, no lugar em que se estabeleceu o templo, construirá-se uma avenida.

E) Se abrirá uma avenida se as pessoas não se disporem a combater a demolição do templo.

**17) Assinale a alternativa em que o trecho destacado está substituído, nos colchetes, de acordo com a norma-padrão de emprego e colocação do pronome.**

A) Fala-se do bem, e há pessoas que sempre praticam o bem. [praticam-no]

B) Busca-se nele o compromisso, mas sua atitude não envolve compromisso [envolve-o]

C) Todos querem felicidade, e as pessoas do bem produzem felicidade. [produzem-na]

D) Haverá negação e problemas se tomarmos essa negação como absoluta. [tomarmo-la]

E) As pessoas pertencem a grupos. É quem insere as pessoas nesse ou naquele grupo? [insere elas]

**18) De acordo com a norma-padrão, a palavra em destaque tem o sinal indicativo de crase empregado corretamente em:**

A) Devido à uma dieta balanceada, Isadora conseguia manter o corpo bonito.

B) As amigas a convenceram à fazer as fotos para a campanha de um hospital.

C) O dinheiro arrecadado com os calendários seria destinado à causas nobres.

D) E no dia marcado, lá estava ela, sem roupa, tranquila, à frente do fotógrafo.

E) Isadora não imaginava que o calendário a levaria à caminho da felicidade.

**19) Assinale a alternativa que completa correta e respectivamente as lacunas da frase a seguir.**

Os poetas, devido \_\_\_\_ uma enorme capacidade de expressão, nos fazem aspirar \_\_\_\_ momentos de encanto e emoção \_\_\_\_ que somos levados através de suas obras.

A) à ... aqueles ... a

B) a ... aqueles ... à

C) a ... àqueles ... à

D) à ... àqueles ... à

E) a ... àqueles ... a

**20) Assinale a alternativa em que a frase está correta quanto à regência e ao emprego do acento indicativo de crase.**

A) O jovem jornalista chegou imaginar que ficaria um tempo à casa dos amigos, mas não tanto.

B) A sua rotina em uma das casas em que morou limitava-se à beber cerveja com seus colegas.

C) A compulsão em procurar não deve se sobrepor à vontade em achar um lugar para morar.

D) Quem procura apartamento necessita de um pouco de sorte e estar aberto à perambulação.

E) Qualquer imóvel está sujeito à problema, o que significa que será difícil encontrar um perfeito.

## MATEMÁTICA

**21) Três reuniões pedagógicas, com durações de 1 hora e 10 minutos, 45 minutos e 1 hora e 55 minutos, seguiram- -se umas às outras, sem ocorrer intervalo entre elas. A duração total dessas três reuniões foi de**

A) 3 horas e 50 minutos.

B) 3 horas e 40 minutos.

C) 3 horas e 30 minutos.

D) 3 horas e 20 minutos.

E) 3 horas e 10 minutos.

**22) Amanda corre 25% mais rápido do que Beatriz (ou seja, para um mesmo intervalo de tempo, Amanda terá percorrido uma distância 25% maior do que a percorrida por Beatriz). Um dia, elas apostaram corrida, na qual partiram da mesma posição e correram até chegarem à linha de chegada. Comparando os tempos em que cada uma das meninas completou a corrida, é correto afirmar que o tempo gasto por Amanda corresponde, do tempo gasto por Beatriz, a**

A) 72%.

B) 74%.

C) 76%.

D) 78%.

E) 80%.

## Simulado 01: PM-SP (Soldado)

23) O salão de uma biblioteca possuía, inicialmente, a forma de um retângulo, com 18 metros de comprimento e 15 metros de largura. Visando aumentar o acervo da biblioteca, foi feita uma ampliação, mantida a forma retangular, em que o comprimento foi aumentado em 50%, e a largura aumentada em 20%. Com essa ampliação, o salão da biblioteca teve sua área aumentada, em comparação com a área original, em

- A) 176 m<sup>2</sup>.
- B) 186 m<sup>2</sup>.
- C) 196 m<sup>2</sup>.
- D) 206 m<sup>2</sup>.
- E) 216 m<sup>2</sup>.

24) Um livro é constituído de 175 páginas em formato retangular, com 20 centímetros de comprimento e 14 centímetros de largura. Todas essas páginas são feitas de um tipo de papel cuja gramatura é de 56 gramas por metro quadrado de papel. Então, desconsiderando quaisquer outros componentes, como capas e lombada, a massa total das páginas desse livro é igual a

- A) 137,2 g.
- B) 156,8 g.
- C) 274,4 g.
- D) 1370,0 g.
- E) 2744,0 g.

25) Joelma encomendou, junto a um fornecedor, alguns livros para a biblioteca pela qual é responsável, sendo 4 exemplares da editora A, 11 exemplares da editora B e 6 exemplares da editora C. Cada exemplar da editora A custou R\$ 33,50, cada exemplar da editora B, R\$ 25,00, e cada exemplar da editora C, R\$ 18,50. Se Joelma teve um desconto de 10% sobre o valor total da encomenda, por tê-la pago à vista, terá pago o valor de

- A) R\$ 468,00.
- B) R\$ 488,00.
- C) R\$ 508,00.
- D) R\$ 510,00.
- E) R\$ 520,00.

26) No estoque de uma empresa há somente caixas dos produtos A e B, no total de 200 caixas, de modo que a razão do número de caixas do produto A para o número de caixas do produto B é  $\frac{3}{5}$ . Após a venda de 20 caixas do produto B e nenhuma caixa do produto A, a razão citada passou a ser igual a

- A)  $\frac{2}{3}$
- B)  $\frac{5}{7}$
- C)  $\frac{3}{5}$
- D)  $\frac{2}{5}$
- E)  $\frac{4}{7}$

27) Um fiscal encontrou em uma feira livre um vendedor de água sanitária vendendo esse produto em um recipiente cilíndrico de diâmetro 8 cm e altura 15 cm. O produto era oferecido como se no

recipiente houvesse 1 litro de água sanitária e o vendedor cobrava R\$ 2,50 por recipiente. Mantida a proporção, o preço por litro de água sanitária que esse vendedor de fato está cobrando está entre

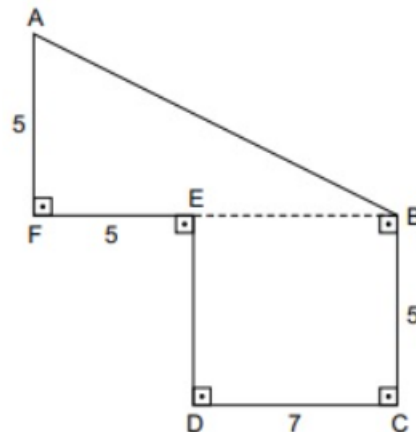
Dados:  $\pi=3,14$

- A) R\$ 3,10 e R\$ 3,20.
- B) R\$ 3,00 e R\$ 3,10.
- C) R\$ 2,90 e R\$ 3,00.
- D) R\$ 3,20 e R\$ 3,30.
- E) R\$ 3,30 e R\$ 3,40.

28) A prefeitura de um município quer transformar uma região retangular de 0,85 km de comprimento por 0,70 km de largura em um espaço para construção de casas, dividindo essa região em terrenos. Cada casa ficará no centro do seu terreno e terá por base um retângulo de 10 metros por 7 metros, de modo que haja uma distância de 3 metros de cada lado desse retângulo com o terreno pertencente à casa. Descontando-se 20% da área da região retangular original para construção de ruas e outros elementos coletivos, o número de moradias (casa e terreno) possíveis de serem construídas nessa região é de aproximadamente

- A) 2568.
- B) 2340.
- C) 2294.
- D) 2860.
- E) 2288.

29) Observe a figura a seguir para responder à questão.



Essa figura representa o contorno de um terreno. As medidas da figura estão expressas em decâmetros. Considere a seguinte relação de medidas: 1 decâmetro corresponde a 10 metros.

A área do terreno, em metros quadrados, é igual a

- A) 5800.
- B) 9500.
- C) 6500.
- D) 6750.
- E) 8900.

## Simulado 01: PM-SP (Soldado)

30) Sabe-se que 1 mL corresponde a 20 gotas. Um paciente deve receber a administração de 360 mL de soro. Essa administração deve durar 6 horas. A quantidade de gotas por minuto que deve ser administrada para esse paciente é igual a

- A) 12.
- B) 20.
- C) 15.
- D) 18.
- E) 24.

31) Um auxiliar de escritório foi incumbido de arquivar determinado número de prontuários. No primeiro dia de trabalho, ele arquivou a terça parte dos prontuários. No segundo dia de trabalho, arquivou a quarta parte dos prontuários que ainda não haviam sido arquivados. No terceiro dia de trabalho, ele arquivou 15 prontuários, e outros 45 prontuários, que não faziam parte dos prontuários originais, chegaram para arquivamento, mas não foram arquivados no terceiro dia. No quarto dia ele arquivou 50 prontuários, no quinto dia ele arquivou 55 prontuários e encerrou o trabalho.

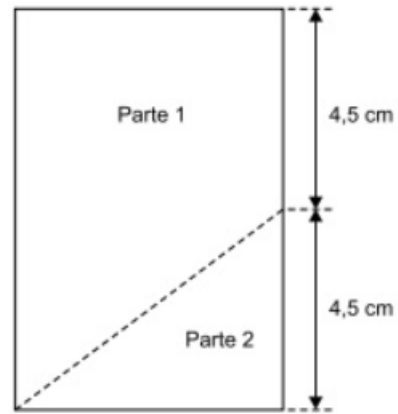
O total de prontuários arquivados pelo auxiliar é um número compreendido entre

- A) 200 e 215.
- B) 185 e 200.
- C) 170 e 185.
- D) 140 e 155.
- E) 155 e 170.

32) Para a aquisição de um equipamento, foram feitos os orçamentos A, B, C e D. Adicionados os valores dos orçamentos A e B, a soma é de R\$ 15.000,00; adicionados os valores dos orçamentos B e C, a soma é de R\$ 18.000,00; e subtraído o valor do orçamento D do valor do orçamento B, a diferença é de R\$ 1.000,00. Sabendo que o valor do menor orçamento é R\$ 1.500,00 menor que a média aritmética simples dos quatro orçamentos, ele foi de

- A) R\$ 8.500,00.
- B) R\$ 8.000,00.
- C) R\$ 7.500,00.
- D) R\$ 7.000,00.
- E) R\$ 6.500,00.

33) Um pedaço de papel retangular, com perímetro de 30 cm, Rascunho será dividido em duas partes, conforme esboçado na figura a seguir:



Após dividido, o perímetro da parte 1 será de

- A) 26,0 cm.
- B) 26,5 cm.
- C) 27,0 cm.
- D) 27,5 cm.
- E) 28,0 cm.

34) Em uma piscina, há três sistemas de escoamento da água, todos com a mesma vazão. Abertos ao mesmo tempo, o volume total de água da piscina é escoado em 2 horas e 20 minutos. Para escoar metade do volume total de água dessa piscina, com apenas dois desses sistemas, abertos ao mesmo tempo, o tempo estimado é de

- A) 1 hora e 25 minutos
- B) 1 hora e 39 minutos.
- C) 1 hora e 45 minutos.
- D) 2 horas e 05 minutos.
- E) 2 horas e 11 minutos.

35) Tem-se uma quantidade, menor que 100 unidades, de certo produto que pode ser separado em grupos contendo 12 unidades cada, ou em grupos contendo 14 unidades cada, sem sobras. Para que essa quantidade de produtos possa ser separada em grupos contendo 13 unidades cada, o número mínimo de unidades que devem ser adicionadas à quantidade que se tem deve ser igual a

- A) 5.
- B) 6.
- C) 7.
- D) 8.
- E) 9.

### CONHECIMENTOS GERAIS

36) Sobre o nazifascismo, as afirmações a seguir estão corretas, EXCETO:

- A) O nazismo, abreviação de Nacional Socialismo, é o nome de uma ideologia política essencialmente racista, disseminada amplamente pelo Partido Nacional Socialista dos Trabalhadores Alemães, que foi criado em 1920, por Anton Drexler, na Alemanha.
- B) Gestapo é o nome dado às comunidades políticas que se formaram em oposição ao nazismo.



## Simulado 01: PM-SP (Soldado)

C) Adolf Hitler, no início da década de 1920, assumiu a liderança do Partido Nacional Socialista dos Trabalhadores Alemães, que passou a se chamar Partido Nacional Socialista ou Partido Nazista.

D) Hitler, em sua biografia, denominada Mein Kampf, delineou o antissemitismo – baseado no preconceito e no ódio contra os judeus – e o anticomunismo como bases de sua filosofia política.

E) O povo alemão, no início do regime nazista na Alemanha, apoiava e acreditava na ideologia pregada por Hitler, que sempre entoava um discurso de salvação nacional, de melhorias na economia e de superioridades racial e cultural germânicas.

**37) Essa instabilidade era igualmente evidente para os EUA, protetores do status quo global que a identificavam com o comunismo soviético, ou pelo menos a encaravam como uma vantagem permanente e potencial para o outro lado na grande luta global pela supremacia.**

**(Eric Hobsbawm, Era dos extremos – O breve século XX – 1914-1991, 1995)**

O excerto traz referências ao contexto

A) neoliberal, mediante a divisão do globo entre China e EUA, diante das disputas econômicas que caracterizaram o mundo nesse período, com ênfase ao papel de mediação exercido pelos russos nesse processo.

B) da Guerra Fria, na qual as ações e estratégias consideravam o chamado terceiro mundo como elemento central nessa disputa, razão pela qual, uma série de golpes e revoluções, ocorreu em quase todos os países terceiro mundistas.

C) de estabilidade vivenciada nos países do chamado cone sul após os desdobramentos políticos ocorridos mediante o Pacto de Moncloa entre as potências vencedoras da Segunda Guerra Mundial.

D) latino-americano, que, de maneira unânime, se posicionou, por meio de seus governantes, ao lado dos EUA nas disputas territoriais que caracterizaram as disputas em torno do comércio global.

E) brasileiro, durante a ditadura cívico-militar, que atuou em parceria com países aliados da URSS, como a China e Cuba, vislumbrando benefícios políticos e econômicos para o país.

**38) Entre 1939 e 1945 a Segunda Guerra Mundial causou um cenário de guerra total e fez com que nações se enfrentassem na Europa, África, Ásia e Oceania. Sobre o conflito, assinale a alternativa correta.**

A) Após a término do conflito foram criados tribunais de julgamento de crimes de guerra cometidos pelos combatentes alemães e japoneses. Como exemplo, podemos citar o Tribunal Militar Internacional de Nuremberg e o Tribunal Internacional para o Extremo Oriente

B) Houve um fortalecimento da Organização das Nações Unidas, que havia sido criada ao final da Primeira Guerra Mundial

C) O final do conflito representou também o final da bipolarização do mundo, com os soviéticos de um lado e os estadunidenses de outro

D) Embora importante, não se pode afirmar que a razão para o início do conflito tenha sido derivada do expansionismo alemão

E) A chamada Batalha de Stalingrado não foi um episódio importante na derrocada final do eixo

**39) A Revolução de Outubro articulou-se conosco, venceu com o nosso sangue, revigorou-se com o nosso idealismo, armou-se com a força dos nossos estados, mas ela nem nasceu da Aliança Liberal, nem do heroísmo de Copacabana, nem da audácia dos cruzadores do nosso sertão. Ela não é militar, nem civil: é ela mesma. Não tem dono, nem senhores, nem chefes. [...] Suas origens são longínquas e obscuras, vêm do passado que violou as leis econômicas e as sociais, e os seus destinos perdem-se num futuro, cujo mistério ultrapassa o estado atual dos nossos conhecimentos.**

[Apud Vavy Pacheco Borges. Em Marcos Cezar de Freitas (org.). Historiografia brasileira em perspectiva]

**Oswaldo Aranha trata**

A) do Golpe de 64.

B) da Revolução de 30.

C) da decretação do Estado Novo.

D) da Proclamação da República.

E) da Revolução Constitucionalista de 32.

**40) Qual foi a relação entre o governo de João Goulart e as Ligas Camponesas, e como essa relação contribuiu para o clima político que culminou no golpe militar de 1964?**

A) As Ligas Camponesas foram criadas durante o governo de Juscelino Kubitschek, antes de Goulart assumir o poder, e sua atuação contribuiu para o clima de instabilidade política que precedeu o golpe militar.

B) Goulart tinha uma relação conflituosa com as Ligas Camponesas, que cobravam dele medidas mais radicais em defesa da reforma agrária, enquanto ele buscava manter o equilíbrio entre os setores políticos.

C) Goulart adotou medidas repressivas contra as Ligas Camponesas, o que gerou insatisfação dos movimentos sociais e culminou em uma série de protestos e manifestações que foram reprimidos pelo regime militar.

D) Goulart apoiou as Ligas Camponesas e incentivou a criação de movimentos populares, o que gerou resistência dos setores conservadores da sociedade brasileira.

**41) Um momento muito importante da história do Brasil, marcado pela criação de diversos direitos trabalhistas, entre eles o salário mínimo, da criação da Justiça do Trabalho e de grandes investimentos na infraestrutura do país, aconteceu com a Revolução de 1930 e a chegada de Getúlio Vargas ao poder. Esse período ficou conhecido como:**

A) Período Getuliano.

B) Governo Getulista.

## Simulado 01: PM-SP (Soldado)

- C) Governo Popular.
  - D) Era Vargas.
- 

**42) No Brasil, somente a partir dos anos 80 que a sociedade alcança os primeiros avanços rumo à constitucionalização de novos direitos sociais, trabalhistas e políticos. Embora, a partir desse contexto, aos brasileiros foram ampliados os acessos a serviços públicos não mercantis e a oferta de benefícios sociais, a seguridade brasileira pós-1988, de orientação e conteúdo próximo ao modelo de bem-estar social, não se traduziu como uma política universal. Outros fatores contribuíram para isso, tais como, as características excludentes do mercado de trabalho, o nível de concentração de renda e o processo de publicização do Estado, que se mostrou**

- A) amplo.
  - B) genérico.
  - C) adequado.
  - D) concreto.
  - E) frágil.
- 

**43) O fenômeno da globalização cultural está em curso, pelo menos, desde a época das grandes viagens marítimas no século XVI, de que resultou a colonização das Américas, com intensificação potencializada após a Segunda Guerra Mundial e nas últimas décadas.**

(Coelho, Teixeira. Dicionário Crítico de Política Cultural. Adaptado).

**A intensificação da globalização cultural se deu após a Segunda Guerra Mundial, graças**

- A) aos processos de migração no contexto da Europa em conflito.
  - B) à distribuição de produtos industrializados norte-americanos.
  - C) à grande aceitação da língua inglesa como uma língua universal.
  - D) à necessidade de padronização cultural na luta contra o fascismo.
  - E) ao aperfeiçoamento dos meios de comunicação de massa e da informática.
- 

**44) Fenômeno que é uma das principais fontes de variabilidade climática interanual, sendo definido como uma oscilação acoplada do oceano-atmosfera, que produz alterações na temperatura da superfície do mar, na pressão, no vento e na convecção tropical, principalmente no Oceano Pacífico, mas com reflexos em muitos lugares do planeta, incluindo o Brasil. Trata-se do fenômeno**

- A) La Niña.
  - B) Célula meridional de Walker.
  - C) El Niño-Oscilação Sul.
  - D) Célula zonal de Hadley.
  - E) El Niño.
- 

**45) A Pesquisa Nacional por Amostra de Domicílios (PNAD) revela que, no Brasil, cerca de 85% da população vive em áreas urbanas. Caracteriza(m) um fator que contribui para esse predomínio**

- A) a mecanização da produção agrícola, que reduziu a oferta de trabalho no campo.
  - B) o elevado uso de agrotóxicos, que estimulou a busca de qualidade de vida nas cidades.
  - C) a estagnação do agronegócio como motor para a produção no campo.
  - D) as políticas públicas municipais para atrair mão de obra qualificada.
- 

**46) Segundo a UNESCO (Organização das Nações Unidas para a Educação, a Ciência e a Cultura), a região brasileira é a “terceira maior reserva da biosfera do mundo” e abriga uma valiosa diversidade de flora e fauna. Um levantamento do INPE (Instituto Nacional de Pesquisas Espaciais) publicado pelo portal G1, em 01 de setembro de 2020, informa que no mês de agosto daquele ano foram registrados, na região, 5 935 focos de calor, número que só foi menor do que foi verificado em 2005, quando foram contabilizados 5 993 focos.**

(G1. Disponível em <https://glo.bo/3xL48aX>. Adaptado. Acesso em 13.08.2021)

**Os dados mencionados referem-se**

- A) à Caatinga.
  - B) ao Cerrado.
  - C) ao Pantanal.
  - D) à Amazônia.
  - E) ao Pampa.
- 

**47) O novo Marco Global da Biodiversidade, que foi acordado em dezembro de 2022, por quase 200 países participantes da 15ª Conferência da ONU sobre Biodiversidade (COP15), Montreal, no Canadá, é um resultado histórico, negociado ao longo de quatro anos – com atrasos em função da pandemia – e que está sendo considerado por especialistas como o equivalente em importância ao Acordo Climático de Paris, porém, com foco na biodiversidade.**

(VEJA. <https://bit.ly/3YYKExR>. 28.12.2022)

**Uma das metas mais ambiciosas estabelecidas pelos países participantes da Conferência foi**

- A) a adoção de políticas de reflorestamento com espécies exóticas.
  - B) a introdução de educação ambiental em todos os níveis de ensino.
  - C) a criação de programas destinados à divulgação pelas mídias locais.
  - D) a conservação de 30% dos habitats terrestres e aquáticos até 2030.
  - E) o apoio financeiro aos países que já extinguiram a biodiversidade original.
-

## Simulado 01: PM-SP (Soldado)

### INFORMÁTICA

48) Políticas públicas em todo o mundo têm sido reorientadas para o cumprimento dos Objetivos de Desenvolvimento Sustentável (ODS). No Brasil, o cumprimento dos ODS está seriamente comprometido.

(Carta Capital. <https://bit.ly/3la1jZy>. 06.12.2022)

No Brasil, entre as metas cruciais dos ODS não cumpridas está

- A) a alta proporção da população vivendo abaixo da linha da pobreza.
- B) o fraco crescimento vegetativo provocado pela alta taxa de mortalidade.
- C) a pequena proporção de idosos no conjunto da população.
- D) a forte concentração da população em áreas rurais.
- E) o fraco crescimento demográfico nas áreas mais pobres.

49) Um grande desafio do governo é a implementação do novo Ensino Médio, que será iniciada ainda este ano [2022]. Houve todo um preparo para essa implementação. Já foram investidos mais de R\$ 2 bilhões nessa mudança. Até o momento, não prevemos nenhuma alteração no cronograma.

(Agência Brasil. <https://bit.ly/3JWlpqe>. 28.04.2022)

Uma das mudanças trazidas pelo novo modelo de Ensino foi

- A) a introdução de duas línguas estrangeiras no currículo.
- B) a criação de área de estudos denominada Ciências Sociais Aplicadas.
- C) o aumento da carga horária para mil horas letivas anuais.
- D) a redução da flexibilidade curricular existente anteriormente.
- E) a carga horária híbrida com 40% de ensino à distância.

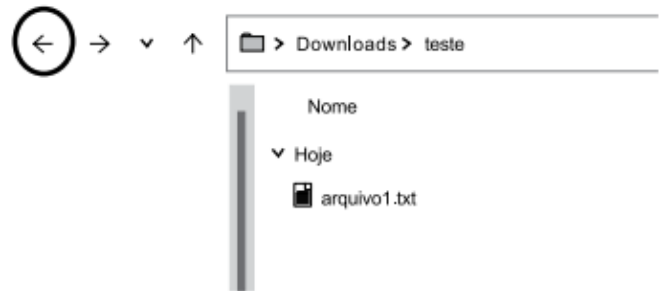
50) Esta fonte ainda dá seus primeiros passos no Brasil, mas diferentes iniciativas podem colocar o país na rota mundial de produção da substância, vista como uma das principais alternativas para a redução do uso de fontes com carbono, o principal vilão do efeito estufa e do aquecimento global.

(G1. <https://glo.bo/3RJJpJy>. 08.08.2022. Adaptado)

A notícia faz referência

- A) à energia geotérmica gerada pelo calor proveniente do interior da Terra.
- B) ao hidrogênio azul produzido a partir do gás natural.
- C) à energia maremotriz produzida a partir do movimento das ondas e marés.
- D) à energia fotovoltaica gerada a partir da radiação solar.
- E) ao hidrogênio verde produzido a partir de fontes de energia limpa.

51) Um usuário acessou a pasta Área de Trabalho, por meio do Explorador de Arquivos do MS-Windows 10, ambos em configuração padrão. Em seguida, clicou com o botão principal do mouse no nome de uma pasta chamada teste, levando à exibição vista na imagem a seguir.



A partir daí, ao acionar o ícone marcado com um círculo na imagem,

- A) o arquivo1.txt será movido para a pasta Downloads.
- B) o arquivo1.txt será copiado para a pasta Downloads.
- C) o arquivo1.txt será movido para a pasta Área de Trabalho.
- D) a visualização voltará para a pasta Área de Trabalho.
- E) a visualização passará para a pasta Downloads.

52) Tem-se uma tabela de 2 linhas e 2 colunas, criada no Microsoft Word 2016, em sua configuração padrão. Com o cursor do mouse na primeira célula da tabela, o usuário pressionou a tecla TAB 4 vezes.

Como resultado dessa ação, a tabela contém

- A) 2 linhas e 2 colunas.
- B) 2 linhas e 3 colunas.
- C) 3 linhas e 2 colunas.
- D) 4 linhas e 1 colunas.
- E) 4 linhas e 2 colunas.

53) Um assistente social, para ficar sempre sabendo do que ocorre nas mediações entre tutores sob sua responsabilidade, solicitou que todas as mensagens trocadas entre tutores e mediadores incluam seu próprio e-mail (do assistente social) na mensagem a ser enviada, de forma que os demais participantes das trocas de e-mails não saibam que ele (o assistente social) está recebendo as mensagens.

Para atender ao descrito no enunciado, o e-mail do assistente social deve ser adicionado no seguinte campo:

- A) Cco
- B) Para
- C) Cc
- D) Anexo
- E) Encaminhar

## Simulado 01: PM-SP (Soldado)

54) O armazenamento em nuvem é um modelo de computação que possibilita ao usuário armazenar e compartilhar dados e arquivos na internet por meio de um provedor de serviços em nuvem, que pode ser acessado por meio da internet pública ou de uma conexão de rede privada dedicada. O serviço de armazenamento em nuvem disponibilizado com o pacote Microsoft 365 é o

- A) NetFlow.
- B) PowerPoint.
- C) OpenShift.
- D) OneDrive.
- E) Google Drive.

55) Um usuário deseja buscar na internet, por meio do Google.com, em sua configuração padrão, por arquivos em PDF que contenham a palavra biblioteconomista.

A expressão de busca que deve ser usada para atender ao enunciado é:

- A) "PDF" biblioteconomista
- B) biblioteconomista in-site PDF
- C) biblioteconomista in-title PDF
- D) "biblioteconomista" filetype:pdf
- E) biblioteconomista filetype:pdf"

### NOÇÕES DE ADMINISTRAÇÃO PÚBLICA

56) Em relação à temática da Administração Pública na Constituição da República Federativa do Brasil, é correto afirmar que

- A) o prazo de validade do concurso público será de até três anos, prorrogável uma vez, por igual período.
- B) é garantido ao servidor público, civil ou militar, o direito à livre associação sindical.
- C) os vencimentos dos cargos do Poder Legislativo e do Poder Judiciário não poderão ser superiores aos pagos pelo Poder Executivo.
- D) é lícita a vinculação ou equiparação de quaisquer espécies remuneratórias para o efeito de remuneração de pessoal do serviço público.
- E) é vedada a acumulação remunerada de cargos públicos, inclusive a de dois cargos de professor.

57) Leia a seguinte matéria:



“Ao se candidatar a uma vaga de empregada doméstica em São Paulo, Simone foi rejeitada por não atender a um requisito racista: o contratante dava preferência a pessoas de cor branca, conforme anúncio publicado em jornal. O caso foi denunciado à Delegacia de Investigações de Crimes Raciais, onde foi instaurado Inquérito Policial. Apesar das provas irrefutáveis, o Ministério Público do Estado de São Paulo requereu o arquivamento do inquérito sob o argumento que o caso não configurava crime de racismo. Argumentação acolhida pelo Poder Judiciário. O caso continua sem resposta por parte da Justiça brasileira” (Fonte: <https://www.opendemocracy.net/>, de 27/07/2020).

O caso Simone André Diniz apresenta um caso de impunidade, pois, conforme o disposto na Constituição da República Federativa do Brasil, a prática do racismo:

- A) Não constitui crime.
- B) É motivo para banimento e extradição.
- C) Constitui crime inafiançável e imprescritível, sujeito à pena de reclusão.
- D) É livre de manifestação de qualquer cidadão.
- E) Constitui uma infração leve, sendo concedido o pagamento de fiança.

58) De acordo com a Lei Federal nº 12.527/2011, conhecida como Lei de Acesso à Informação, os documentos cuja divulgação ponha em risco a segurança da sociedade e do Estado, bem como aqueles necessários ao resguardo da inviolabilidade da intimidade, da vida privada, da honra e da imagem das pessoas são originalmente

- A) ostensivos.
- B) sigilosos.
- C) históricos.
- D) permanentes.
- E) oficiais.

59) No que concerne à Lei de Acesso à Informação, Lei Federal nº 12.527/ 2011, é correto afirmar que

- A) assegura o direito fundamental de acesso à informação em conformidade com as diretrizes de observância da publicidade como preceito geral e do sigilo como exceção e divulgação de informações, exclusivamente mediante solicitações.
- B) estão subordinados ao regime desta lei, os órgãos públicos integrantes da administração direta dos Poderes Executivo, Legislativo, excluindo as Cortes de Contas, e incluindo o Judiciário, o Ministério Público, as autarquias, as fundações e as empresas públicas.
- C) é dever do Estado garantir o direito de acesso à informação, que será franqueada, mediante procedimentos objetivos e ágeis, de forma transparente, clara e em linguagem de fácil compreensão.
- D) compreende o direito de se obter orientação sobre os procedimentos para acesso, o local onde poderá ser obtida a informação contida em registros ou apenas nos documentos recolhidos em arquivos públicos.

## Simulado 01: PM-SP (Soldado)

E) compreende o acesso às informações referentes a projetos de pesquisa e desenvolvimento científicos ou tecnológicos independentemente do sigilo imprescindível à segurança da sociedade e do Estado.

---

**60) Segundo a Lei nº 12.527/2011, um dos objetivos do Núcleo de Segurança e Credenciamento (NSC), instituído no âmbito do Gabinete de Segurança Institucional da Presidência da República, é**

A) promover e propor a regulamentação do credenciamento de segurança de pessoas físicas, empresas, órgãos e entidades para tratamento de informações sigilosas.

B) requisitar da autoridade, que classificar a informação como ultrassecreta e secreta, esclarecimento sobre o conteúdo parcial ou integral da informação.

C) rever a classificação de informações ultrassecretas ou secretas, de ofício ou mediante provocação de pessoa interessada, observado o disposto no art. 7º e demais dispositivos dessa Lei.

D) indicar as razões de fato ou de direito da recusa, total ou parcial, de acesso pretendido por qualquer pessoa física ou jurídica.

E) possibilitar a gravação de relatórios mensais ou anuais em diversos formatos eletrônicos, inclusive abertos e não proprietários, tais como planilhas e texto, de modo a facilitar a análise das informações solicitadas.

---

# Questões Comentadas

## Simulado 01: PM-SP (Soldado)

### PORTUGUÊS

1) Leia a tira para responder à questão.



(André Dahmer. *Não há nada acontecendo*. www1.folha.uol.com.br. 10.07.2023)

Considere os trechos:

– Veja com seus próprios olhos (2º quadro) – Pode até divertir algum desavisado (4º quadro)

Os vocábulos em destaque expressam, no contexto em que foram empregados, respectivamente, sentido de

- A) convite e retratação.
- B) constatação e vontade.
- C) ordem e possibilidade.
- D) observação e permissão.
- E) advertência e intenção.

#### COMENTÁRIO:

“– Veja com seus próprios olhos (2º quadro)”

O verbo VER está conjugado, neste trecho, na 2ª pessoa do imperativo afirmativo, indicando ordem ,comando.

“– Pode até divertir algum desavisado (4º quadro)”

O verbo PODE, neste caso, remete à ideia de uma possibilidade, permissão,

Portanto, o gabarito de nossa questão é alternativa C

**GABARITO: C.**

2) Leia o texto para responder à questão.

Para conseguir lidar com o luto pela perda precoce da mãe, aos 10 anos, o japonês Takeo Sawada (1917-2004) começou a pintar. Ganhou um kit de desenho do pai, na cidade de Yuki, a 100 quilômetros de Tóquio. Participou de duas exposições e, aos 12 anos, conquistou o Prêmio Imperial do governador da província de Ibaraki. Contudo, com a promessa de uma vida melhor, decidiu emigrar para o Brasil, então com 16 anos de idade, e seguir os passos dos familiares que se estabeleceram em Rancharia, no oeste paulista.

Sem conhecer a língua portuguesa e os costumes do país, teve ajuda de um tio comerciante e trabalhou em plantações de café e algodão. Sua sensibilidade artística foi aguçada pelos elementos da natureza, e uma árvore

## Simulado 01: PM-SP (Soldado)

frondosa de flores vermelhas foi a que mais chamou sua atenção: o flamboyant. Sawada gostava de admirá-la, pintá-la e fotografá-la pela cidade, num convite à contemplação.

Na década de 1970, fundou um curso de artes visuais para crianças. Ao longo de três décadas, cerca de 4 mil alunos — incluindo adultos — tiveram aulas com o sensei [mestre ou professor], que se tornou referência em arte-educação. “Frequentei as aulas de Sawada em 1987, aos 25 anos. Lembro-me de sua voz tranquila, dos óculos pendurados por um cordão e de muitos pincéis e lápis no bolso da camisa”, recorda-se a artista visual Carmo Malacrida, uma das curadoras da exposição “À Sombra do Flamboyant: Takeo Sawada”, em cartaz no Sesc Registro.

As aulas do artista incluíam desde passeios ao ar livre a exercícios de técnicas de desenho e pintura no ateliê. Em entrevista a um canal de televisão, o próprio artista definiu sua atuação: “Ensinar criança não é para criar artista, é para formar uma boa pessoa, uma pessoa de paz, de boa índole, que possa se dedicar ao Brasil, à sociedade”. Inspirada pelo mestre, Carmo dá aulas de artes para crianças há 22 anos, e diz que aprendeu com ele a ver o mundo de forma poética. “Ele nos preparava para a vida, queria que criássemos livremente. Dizia para não termos medo do vazio do papel, que na folha grande há muito espaço para desenhar e pintar”, conta.

(Luna D’Alama. Da cerejeira ao flamboyant. Revista E, maio de 2023. Adaptado)

Um sinônimo de “aguçada”, no contexto em que o vocábulo foi empregado no 2º parágrafo, é

- A) aplicada.
- B) esforçada.
- C) interessada.
- D) apurada.
- E) corrompida.

---

### COMENTÁRIO:

"[Sua sensibilidade artística foi aguçada pelos elementos da natureza], e uma árvore frondosa de flores vermelhas foi a que mais chamou sua atenção: o flamboyant. Sawada gostava de admirá-la, pintá-la e fotografá-la pela cidade, num convite à contemplação".

Pessoal, a palavra AGUÇADA, no sentido empregado no texto, remete-nos a uma ideia de clareza, de algo apurado. Diante disso, alternativa correta é D.

**GABARITO: D.**

---

### 3) Leia a tira para responder à questão.



(Fernando Gonsales. *Níquel náusea: um tigre, dois tigres, três tigres*. São Paulo: Devir, 2009)

A respeito do sonho mencionado na tira, é correto afirmar que

- A) o seu conteúdo é impossível de ser deduzido, já que nem o próprio rato que sonhou sabe explicá-lo.
- B) a sua forma é comum a outros sonhos e, por isso, já é conhecida pelo rato que deveria ouvir o relato.
- C) a confusão sobre as pessoas e os lugares faz com que o sonho se assemelhe a uma realidade vivida.
- D) a descrição de sua forma não coincide com o que foi sonhado e, por isso, o rato que iria contar o sonho perde o interesse em fazê-lo.
- E) a riqueza de detalhes com que o sonho é descrito prova que o rato já tinha ouvido esse mesmo sonho anteriormente.

---

### COMENTÁRIO:



## Simulado 01: PM-SP (Soldado)

Alternativa A está incorreta ao afirmar acerca da impossibilidade de dedução do sonho, além de informar, erroneamente, que nem o próprio rato que sonhou saberia explicá-lo. Ora, se ele mesmo pergunta se pode contar o sonho, entende-se que saberá contá-lo.

Alternativa B está correta. Observemos que a sequência do diálogo entre os dois ratinhos evidencia pontos comuns a outros sonhos, ou seja, não há novidades neste sonho.

Alternativa C está errada. Há uma extrapolação aqui, pois não se pode afirmar isso ao lermos o texto.

Alternativa D está errada. Pelo contrário, a descrição de sua forma coincide com o que foi sonhado. Isso é tão claro no texto que, ao final, um dos ratos perde o interesse em contar, pois se trata de um sonho comum, análogo aos demais.

Alternativa E está errada, pois não há riquezas de detalhes, mas sim pontos em comum a outros sonhos, tornando-os corriqueiros.

**GABARITO: B.**

---

### 4) Leia o texto para responder à questão.

#### Prece

Senhor Bom Jesus do Calvário e da Via-Sacra  
O prefeito Henriquinho  
Vai derrubar o teu templo da Rua Uruguaiana  
Para abrir uma avenida!

Senhor Bom Jesus do Calvário e da Via-Sacra  
O prefeito Henriquinho  
Para abrir uma avenida  
Vai demolir o templo do santo  
Pedra da fé  
Sobre a qual edificaste a tua Igreja!

Senhor Bom Jesus do Calvário e da Via-Sacra  
Quando o prefeito morrer  
Não o mandes para o Inferno:  
Ele não sabe o que faz.  
Mas um seculozinho a mais de Purgatório  
Não seria mau. Amém.

(Manuel Bandeira. As cidades e as musas)

A primeira e a segunda estrofes terminam com ponto de exclamação, que reforça a ideia de

- A) indiferença.
- B) auspício.
- C) contradição.
- D) ambiguidade.
- E) indignação.

---

#### COMENTÁRIO:

Pessoal, uma das finalidades do sinal de exclamação é indicar uma emoção. Ao lermos o texto, perceberemos que há um sentimento de indignação, sobretudo, com a derrubada do templo da Rua Uruguaiana para a construção de uma avenida. Certo?

**GABARITO: E.**

---

### 5) Leia o texto para responder à questão.

O amor supera o calendário

## Simulado 01: PM-SP (Soldado)

Convidada por amigas para posar sem roupa para um calendário beneficente, dona Isadora hesitou muito. Educada numa tradição de severo moralismo, desaprovava fotos desse tipo, que considerava baixaria. Além disso, aos setenta anos, não era exatamente um modelo desses que desfilam em passarela, embora conservasse ainda muitos traços de sua passada beleza e tivesse, graças à ginástica diária e a uma dieta controlada, um corpo até razoável para a idade.

De outro lado, a causa era boa; tratava-se de ajudar um hospital especializado em câncer infantil, que precisava de muito dinheiro. Essa campanha, para ela, era inusitada. O certo é que ninguém a recriminaria por sua atitude. O marido, um homem de rígida moral, falecera há muitos anos. Resolveu ir em frente, e no dia estava ela, sem roupa, mas atrás de flores, posando para um fotógrafo. A princípio sentiu-se constrangida, mas lá pelas tantas estava até gostando.

O calendário foi um sucesso. Um dia, dona Isadora recebeu um telefonema. Do outro lado, uma voz masculina cumprimentava-a pela foto: – Vejo que você continua bela como sempre. Parabéns.

Era o Belmiro, seu primeiro namorado. Haviam se conhecido no bairro em que moravam e viveram uma tórrida paixão. Mas o pai dele, militar, levou a família para o Norte, o que acabara por interromper o namoro. Por décadas não se tinham visto; agora, Belmiro, de volta à cidade, por acaso comprara o calendário e, pela saudade, resolvera telefonar. Como Isadora, estava viúvo; e, como ela, recordava com saudades os tempos de namoro.

Estão morando juntos e vivendo muito felizes. Belmiro só fez uma exigência: Isadora jamais posará para um calendário de novo.

(Moacyr Scliar, Histórias que os jornais não contam. L&PM Editores. Adaptado)

Considere as passagens:

- Essa campanha, para ela, era inusitada. (2º parágrafo)
- A princípio sentiu-se constrangida... (2º parágrafo)

As palavras destacadas significam, correta e respectivamente:

- A) incomum e envergonhada.
- B) rara e temerosa.
- C) vulgar e inibida.
- D) estranha e amedrontada.
- E) excepcional e receosa.

---

### COMENTÁRIO:

Vamos lá, pessoal.....

A palavra "inusitada" significa algo fora do comum, algo que foge ao habitual ou é pouco convencional. No contexto do texto, a campanha para posar sem roupa para um calendário beneficente é descrita como "inusitada" para a personagem Dona Isadora porque ela não estava acostumada a esse tipo de atividade, dada sua criação e valores morais mais conservadores.

A expressão "a princípio sentiu-se constrangida" indica que inicialmente Dona Isadora se sentiu envergonhada ou desconfortável ao posar sem roupa para o calendário. A palavra "constrangida" é usada para descrever um estado de desconforto causado por uma situação social ou moralmente desafiadora.

Portanto, nosso gabarito é a alternativa A (inusitada e envergonhada), pois ela reflete de maneira precisa os significados das palavras no contexto do texto. A situação da campanha beneficente para o calendário é incomum para Dona Isadora, e ela inicialmente experimenta um sentimento de constrangimento ao participar dessa atividade.

**GABARITO: A.**

---

### 6) Leia atentamente o a seguir:

Por causa de falta de acompanhamento médico, as mortes maternas aumentaram ou estagnaram em quase todas as regiões do mundo: em média, uma mulher morre durante a gravidez ou no parto a cada 2 minutos, de acordo com o relatório da Organização Mundial da Saúde (OMS) "Tendências na mortalidade materna", divulgado em fevereiro. O total das mulheres grávidas que não fazem nem quatro dos oito exames recomendados durante a gravidez ou não recebem cuidados essenciais após o parto é de aproximadamente um terço delas, enquanto cerca de 270 milhões não têm acesso a métodos modernos de planejamento familiar. Em 2020, cerca de 70% de todas as mortes maternas ocorreram na África subsaariana, em razão de sangramento grave, pressão alta, infecções relacionadas à gravidez, complicações de aborto inseguro e doenças como HIV/Aids ou malária, que podem ser

## Simulado 01: PM-SP (Soldado)

agravadas pela gravidez. No Chade, a taxa média de mortalidade é de 1063 mulheres para cada 100 mil nascidos vivos. Na Alemanha, de 5 para cada 100 mil.

(Pesquisa Fapesp. <https://revistapesquisa.fapesp.br>, Edição 326, abril de 2023. Adaptado)

Na frase final do texto – Na Alemanha, de 5 para cada 100 mil. –, a vírgula serve para separar a expressão adverbial de lugar e para indicar que há

- A) separação de termos em enumeração.
- B) retificação de informação prévia.
- C) informação implícita no enunciado.
- D) divergência entre os dados citados.
- E) ambiguidade na exposição das ideias.

---

### COMENTÁRIO:

A vírgula é utilizada para isolar a expressão "Na Alemanha", que funciona como uma expressão adverbial de lugar, indicando onde ocorre a taxa de mortalidade materna mencionada (no caso, na Alemanha). A informação implícita é que a taxa de mortalidade na Alemanha é de 5 mulheres para cada 100 mil nascidos vivos.

**GABARITO: C.**

---

### 7) Assinale a alternativa em que, na frase alterada, a posição da vírgula está em conformidade com a norma-padrão de pontuação.

- A) O quanto esse ritmo, acelerado está nos fazendo bem, como sociedade, a longo prazo, podemos nos perguntar.
- B) Como sociedade podemos nos perguntar, o quanto esse ritmo acelerado, está nos fazendo bem, a longo prazo, sobretudo.
- C) Podemos nos perguntar, o quanto esse ritmo acelerado, como sociedade, está sobretudo a longo prazo, nos fazendo bem.
- D) Podemos nos perguntar, como sociedade, o quanto esse ritmo acelerado está nos fazendo bem, sobretudo a longo prazo.
- E) Sobretudo a longo prazo, como sociedade, podemos nos perguntar quanto, esse ritmo acelerado está nos fazendo bem.

---

### COMENTÁRIO:

Alternativa A está incorreta, não se deve separar sujeito do verbo. O correto seria:

“O quanto esse ritmo acelerado está nos fazendo bem, como sociedade, a longo prazo, podemos nos perguntar.”

Alternativa B está incorreta, não se deve separar o verbo de seu complemento. Veja a reescrita com correção:

“Como sociedade, podemos nos perguntar o quanto esse ritmo acelerado está nos fazendo bem, a longo prazo, sobretudo.”

Alternativa C está incorreta. Vide alternativas anteriores.

Alternativa D está correta, pois respeita fielmente as regras gramaticais.

“Podemos nos perguntar, como sociedade, o quanto esse ritmo acelerado está nos fazendo bem, sobretudo a longo prazo.”

Alternativa E está incorreta. Vide explicação das alternativas B e C.

**GABARITO: D.**

---

### 8) Assinale a alternativa em que a frase está em conformidade com a norma-padrão de concordância verbal e nominal.

- A) Torcemos para que muitos mais crianças tenham a oportunidade de usar o parquinho.
- B) Fomos nós que mandamos instalar o brinquedo, mas nós mesmo não os vimos ainda.
- C) Passamos esta manhã pela praça e pudemos acompanhar como está as reformas.
- D) Ocorreram avanços nas obras municipais, o que conferiram mais conforto ao povo.

## Simulado 01: PM-SP (Soldado)

E) Devia haver mais parques na cidade que tivessem diversão para adultos e crianças.

### COMENTÁRIO:

Alternativa A está errada. Muitos, neste contexto, é uma palavra intensificadora do advérbio, deve permanecer invariável. O correto seria:

“Torcemos para que muito mais crianças tenham a oportunidade de usar o parquinho.”

Alternativa B está errada. Mesmo, nesta perspectiva, deveria está no plural. Trata-se de um pronome demonstrativo de reforço com o sentido de “PRÓPRIO”. O correto seria:

“Fomos nós que mandamos instalar o brinquedo, mas nós mesmo não os vimos ainda.”

Alternativa C está errada. O verbo ESTAR deverá ser conjugado na 3ª pessoa do plural do presente do indicativo do verbo. Portanto, o correto seria:

“Passamos esta manhã pela praça e pudemos acompanhar como estão as reformas.”

Alternativa D está errada. O correto seria a substituição de “o que” por “as quais, já que este último retoma um termo antecedente na forma plural. Vejamos:

“Ocorreram avanços nas obras municipais, o que conferiram mais conforto ao povo.”

Alternativa E está correta, respeita regras gramaticais. O verbo haver no sentido de existir é impessoal, permanecendo invariável.

“Devia haver mais parques na cidade que tivessem diversão para adultos e crianças.”

**GABARITO: E.**

### 9) Assinale a alternativa em que a frase está em conformidade com a norma-padrão de concordância da língua portuguesa.

- A) Antigamente era popular instituições psiquiátricas que se valiam de tratamentos controversos.
- B) Muitas poucas pessoas saíam de um hospício curadas dos problemas que supostamente tinham.
- C) Hoje observa-se tratamentos humanizados de pessoas que necessitam de ajuda psiquiátrica.
- D) Foi reformulado pelo conhecido psiquiatra Franco da Rocha a assistência aos doentes mentais.
- E) Os métodos clínicos mudaram bastante com o aprofundamento dos estudos sobre a mente.

### COMENTÁRIO:

Alternativa A está incorreta. O verbo SER e o adjetivo POPULAR deverão concordar com “instituições psiquiátricas”. O correto seria:

“Antigamente era popular instituições psiquiátricas que se valiam de tratamentos controversos.”

Alternativa B está incorreta. Muito, neste contexto, é uma palavra intensificadora do advérbio “pouca”. Assim, deve permanecer invariável. O correto seria:

“Muito poucas pessoas saíam de um hospício curadas dos problemas que supostamente tinham.”

Alternativa C está incorreta. O verbo observar deve ser conjugado no plural para concordar com “tratamentos humanizados”, pois há entre eles uma relação de verbo e sujeito. O correto seria:

“Hoje observam-se tratamentos humanizados de pessoas que necessitam de ajuda psiquiátrica.”

Alternativa D está errada. Quem foi reformulada? A assistência aos doentes mentais. O correto seria:

“Foi reformulada pelo conhecido psiquiatra Franco da Rocha a assistência aos doentes mentais.”

Alternativa E está correta, portanto, nosso gabarito.

“Os métodos clínicos mudaram bastante com o aprofundamento dos estudos sobre a mente.”

**GABARITO: E.**

### 10) Na passagem – Aos oito anos os meus plurais careciam, alguma vez, da desinência exata, ele a corrigia, meio sério para dar autoridade à lição... –, a regência e o sentido das formas verbais destacadas mantêm-se inalterados, se elas forem substituídas, correta e respectivamente, por:

- A) enfatizavam; arrumava; excluir.
- B) exigiam; divergia; estabelecer.
- C) dispensavam; alterava; coibir.

## Simulado 01: PM-SP (Soldado)

- D) precisavam; consertava; conferir.  
E) ocultavam; discordava; solicitar.

---

### COMENTÁRIO:

"Carecer" e "precisar": Ambas as palavras têm um significado semelhante de necessidade ou falta de algo. Portanto, a substituição mantém o sentido original da frase.

"Corrigir" e "consertar": Ambas as palavras indicam ação de reparar ou ajustar algo. Neste contexto, as formas verbais são intercambiáveis, mantendo a ideia de correção dos plurais.

"Desinência exata" e "conferir": Apesar de não serem sinônimos, "conferir" é usado aqui no sentido de verificar ou conferir a desinência exata, mantendo a ideia de ajustar ou corrigir.

Portanto, nosso gabarito é alternativa D

**GABARITO: D.**

---

### 11) Assinale a alternativa que atende à norma-padrão de concordância verbal.

- A) As vendas de carros elétricos e híbridos aumentaram no Brasil, mas os preços desses veículos ainda mantêm poucos deles em circulação nas ruas do país.  
B) Os carros elétricos e híbridos disponíveis no mercado nacional vem contando com a isenção do imposto de importação, que a Anfavea quer ver revogado.  
C) No que diz respeito à matriz elétrica, o Brasil ocupa posição ímpar, pois dispõem de 82,9% da eletricidade oriunda de fontes renováveis.  
D) Cresceram as vendas chinesas de carros elétricos e híbridos: tratam-se de 82% de aumento em 2022, enquanto o mercado automotivo geral encolhia 5,3%.  
E) As fontes renováveis e a alta produção de etanol faz com que o Brasil tenha um enorme potencial para BEVs e PHEVs.

---

### COMENTÁRIO:

De cara, nosso gabarito é alternativa A .

“As vendas de carros elétricos e híbridos aumentaram no Brasil, mas os preços desses veículos ainda mantêm poucos deles em circulação nas ruas do país.”

Alternativa B está incorreta. O verbo deverá ser acentuado, pois se trata de uma conjugação na 3ª pessoa do plural. O correto seria:

“Os carros elétricos e híbridos disponíveis no mercado nacional vêm contando com a isenção do imposto de importação, que a Anfavea quer ver revogado.”

Alternativa C está errada. O verbo dispor deverá ser conjugado no singular. O correto seria:

“No que diz respeito à matriz elétrica, o Brasil ocupa posição ímpar, pois dispõe de 82,9% da eletricidade oriunda de fontes renováveis.”

Alternativa D está errada. O verbo tratar está conjugado na terceira pessoa do singular e indica uma indeterminação do sujeito. Neste caso, permanece no singular. O correto seria:

“Cresceram as vendas chinesas de carros elétricos e híbridos: trata-se de 82% de aumento em 2022, enquanto o mercado automotivo geral encolhia 5,3%.”

Alternativa E está errada. Estamos diante de um sujeito composto, portanto, o verbo fazer deverá ser conjugado na terceira pessoa do plural. O correto seria:

“As fontes renováveis e a alta produção de etanol fazem com que o Brasil tenha um enorme potencial para BEVs e PHEVs.”

**GABARITO: A.**

---

### 12) Assinale a alternativa que completa, correta e respectivamente, as lacunas do texto segundo a norma-padrão de regência e de emprego do artigo.

Uma história pode ser contada \_\_\_\_ alguém que não necessariamente a testemunhou, e o sucesso que alcançará dependerá \_\_\_\_ quanto o autor conseguiu se envolver \_\_\_\_ que lhe foi relatado.

- A) pelo ... a ... no

## Simulado 01: PM-SP (Soldado)

- B) por ... do ... com o
- C) a ... em ... de
- D) ao ... a ... o
- E) com ... de ... pelo

---

### COMENTÁRIO:

Vamos lá!

Quem conta a história? Alguém (assim, a história é contada POR)  
Quem depende, depende DE. Ok?  
Quem se envolve, envolve-se COM algo. Certo?

Nosso gabarito é a alternativa B.

**GABARITO: B.**

---

### 13) Assinale a alternativa que atende à norma-padrão de regência nominal e verbal.

- A) A imposição a um modelo feminino veio sendo construído ao longo do tempo, visando pela dominância de um comportamento.
- B) A crítica que se faz às princesas suspirosas provavelmente se respalda no anseio das pessoas pela oposição a um comportamento.
- C) Os contos de fadas que nos referimos continuamente vieram em nossas vidas pela tradição, que a origem foge de nosso conhecimento.
- D) Educadores, pais, autores de antologias e editores são responsáveis das escolhas das histórias que hoje se fazem críticas.
- E) As pessoas têm a pretensão que os contos sejam atualizados e colocados em moldes, pois aspiram por limpeza ideológica.

---

### COMENTÁRIO:

Alternativa A está errada. O verbo VISAR no sentido de almejar é transitivo indireto, portanto, exige preposição “a”. Além disso, quem vem sendo “construída” é a imposição. O correto seria:

“A imposição a um modelo feminino veio sendo construída ao longo do tempo, visando à dominância de um comportamento.”

Alternativa B está correta. Pessoal, vamos raciocinar um pouco, ok? Quem faz críticas, faz críticas “a” algo ou “a” alguém. Neste caso, quem fez as críticas, fez as críticas A ALGUÉM + AS PRINCESAS. Assim, está correta a sentença abaixo:

“A crítica que se faz às princesas suspirosas provavelmente se respalda no anseio das pessoas pela oposição a um comportamento.”

Alternativa C está errada. Vamos por partes aqui.

Quem se refere, refere-se a algo/alguma coisa. O correto seria: “Os contos de fadas a que nos referimos ...”

O verbo VIR, aqui, é transitivo indireto e exige a preposição A. O correto seria: “...vieram às nossas vidas pela tradição...”

O “ que “deve ser substituído por “cuja” para que se preserve a correção gramatical. O correto seria: “...cuja origem foge de nosso conhecimento.”

Alternativa D está errada. Gente, vamos analisar com calma esta assertiva aqui.

Concordam que Quem é responsável é responsável POR ALGO/ALGUMA COISA? Concordam também que Quem faz críticas faz críticas A ALGUÉM/A ALGO? Portanto, o correto seria: “Educadores, pais, autores de antologias e editores são responsáveis pelas escolhas das histórias a que hoje se fazem críticas.”

Alternativa E está errada. Quem tem pretensão, tem pretensão DE algo/alguma coisa. Ok? Agora, quem aspira (sentido de desejar, intencionar, pretender), aspirar “a algo/alguma coisa. Certo? Então, o correto seria: “As pessoas têm a pretensão de que os contos sejam atualizados e colocados em moldes, pois aspiram à limpeza ideológica.”

**GABARITO: B.**

---

## Simulado 01: PM-SP (Soldado)

### 14) A regência está em conformidade com a norma-padrão em:

- A) Muitas pessoas têm dúvidas que os arranha-céus sejam um tipo de construção que a maioria dos cidadãos gosta.
- B) Quem é sensível à importância das casas antigas anseia na sua sobrevivência ante a propagação de arranha-céus.
- C) Estariam as cidades aptas a receber tantos arranha-céus? Muitas pessoas discordam com essa perspectiva.
- D) A beleza das casas coloridas se impõe a todos, e o tamanho dos arranha-céus não é capaz de ofuscá-las.
- E) É preferível ter casas coloridas nas ruas do que arranha-céus, pois ninguém lembra das qualidades destes.

#### COMENTÁRIO:

Alternativa A está errada. Quem tem dúvidas, tem dúvida DE alguma coisa. Além disso, quem gosta, gosta DE. A construção correta seria: “Muitas pessoas têm dúvidas de que os arranha-céus sejam um tipo de construção de que a maioria dos cidadãos gosta.”

Alternativa B está errada. Quem anseia, anseia POR algo/alguma coisa. Ok? O correto seria: “Quem é sensível à importância das casas antigas anseia por sua sobrevivência ante a propagação de arranha-céus.”

Alternativa C está errada. Gente, quem discorda, discorde DE algo/alguma coisa. Né isso? Então, o correto seria: “Estariam as cidades aptas a receber tantos arranha-céus? Muitas pessoas discordam dessa perspectiva.”

Alternativa D está correta, portanto, nosso gabarito.

“A beleza das casas coloridas se impõe a todos, e o tamanho dos arranha-céus não é capaz de ofuscá-las”

Alternativa E está errada. Pessoal, vamos nos ligar na regência do verbo PREFERIR. Quem prefere, prefere algo a alguma coisa. Nesse sentido, o correto seria: “É preferível ter casas coloridas nas ruas a arranha-céus, pois ninguém lembra das qualidades destes.”

#### GABARITO: D.

### 15) A alternativa em que o pronome destacado deve estar necessariamente na posição em que foi colocado é:

- A) As ambições particulares se sobrepunham às carências coletivas...
- B) Irritado com os críticos de arte a não lhe darem sossego...
- C) ... Balzac apontou-lhes o dedo.
- D) Ficção e agudo exame da sociedade mesclaram-se na obstinada defesa do bom jornalismo.
- E) ... palavras do livro se articulam para escancarar hipocrisias, falsidades.

#### COMENTÁRIO:

Pessoal, todas as alternativas acima permitem o deslocamento do pronome sem comprometer a correção gramatical, exceto o disposto na opção B. Isso, porque temos uma palavra atrativa o “não” que, por sua vez, exige o pronome antes do verbo dar. Assim, estamos diante de um caso de próclise obrigatória. “Irritado com os críticos de arte a não lhe darem sossego...”

#### GABARITO: B.

### 16) Assinale a alternativa em que a colocação pronominal e a flexão verbal estão de acordo com a norma-padrão.

- A) Quem vir conhecer o lugar verá que criou-se uma avenida onde antes tinha-se um templo.
- B) Se tudo se manter como o planejado, a avenida que se abrirá ficará no lugar do templo.
- C) Quando se vir o lugar onde passa a avenida, certamente se sentirá a falta do templo ali.
- D) Ninguém entrevistou e, no lugar em que se estabeleceu o templo, construirá-se uma avenida.
- E) Se abrirá uma avenida se as pessoas não se disporem a combater a demolição do templo.

#### COMENTÁRIO:

Alternativa A está errada. O verbo VIR (sentido de locomover-se) deve ser conjugado, neste caso, no futuro do subjuntivo. O correto seria: “Quem vier conhecer o lugar verá que...”

Outro ponto importante, nesta assertiva, é a colocação pronominal. O “que” é uma conjunção subordinativa que exige próclise. O correto seria: “...verá que se criou uma avenida onde antes...”

Ademais, “antes” é um advérbio, portanto, uma palavra atrativa que exige próclise. O correto seria: “...onde antes se tinha um templo.”

## Simulado 01: PM-SP (Soldado)

Alternativa B está errada. Pessoal, uma dica bacana é lembrar de que o verbo “manter” é derivado do verbo “ter”. Então, se nós dissermos: Se ela tiver coragem de treinar . Estaria correto, também falarmos : Se tudo se mantiver. Certo?

Alternativa C está correta, portanto, nosso gabarito. Estamos diante do verbo VER, empregado no sentido de enxergar, observar no futuro do subjuntivo.

“Quando se vir o lugar onde passa a avenida, certamente se sentirá a falta do templo ali. “

Alternativa D está errada. O correto seria : “Ninguém interveio e, no lugar em que se estabeleceu o templo, construirá-se uma avenida.” Estamos diante do verbo intervir que deriva do verbo vir no sentido de movimento, locomoção, portanto, o correto é interveio. Ok?

Outra ponto importante é que verbos no futuro do presente ou no futuro do pretérito exige mesóclise. Assim o correto seria: “...construir-se-á uma avenida. Certo?”

Alternativa E está errada. Esta assertiva possui um erro de colocação pronominal, pois não se inicia uma oração com pronome oblíquo átono. Outro ponto relevante é que estamos diante de um verbo conjugado no futuro do presente, exigindo, portanto, mesóclise. O Correto seria: “abrir-SE-á uma avenida...”

Agora, prestem atenção aqui, por gentileza: o verbo dispor deriva do verbo pôr. Então se falamos : Os garotos não puseram as louças sobre a mesa. Logo, chegaremos à conclusão de que “... as pessoas não se dispuseram combater a demolição do templo.” está corretíssima.

**GABARITO: C.**

---

**17) Assinale a alternativa em que o trecho destacado está substituído, nos colchetes, de acordo com a norma-padrão de emprego e colocação do pronome.**

- A) Fala-se do bem, e há pessoas que sempre praticam o bem. [praticam-no]
- B) Busca-se nele o compromisso, mas sua atitude não envolve compromisso [envolve-o]
- C) Todos querem felicidade, e as pessoas do bem produzem felicidade. [produzem-na]
- D) Haverá negação e problemas se tomarmos essa negação como absoluta. [tomarmo-la]
- E) As pessoas pertencem a grupos. E quem insere as pessoas nesse ou naquele grupo? [insere elas]

**COMENTÁRIO:**

Alternativa A está incorreta, pois estamos diante de um advérbio, palavra atrativa que exige próclise. O correto seria: “Fala-se do bem e há pessoas que sempre o praticam. “

Alternativa B está errada. Levem isso para prova: advérbio atrai o pronome. Combinado? O correto seria: “Busca-se o compromisso, mas sua atitude não o envolve”

Alternativa C está correta. Interessante esta assertiva. Nós poderíamos nos questionar se este “bem” seria um advérbio, mas, na verdade, se trata de um adjetivo que qualifica pessoas. Daí, o motivo de não termos uma hipótese de próclise obrigatória.

Alternativa D está errada. Nesta assertiva, a conjunção se é atrativa exigindo, portanto, o deslocamento do pronome para antes do verbo. O correto seria: “Haverá negação e problemas se a tomarmos absoluta.”

Alternativa E está errada. O pronome quem é uma palavra atrativa, logo, exige próclise. O correto seria: “As pessoas pertencem a grupos. E quem as insere nesse ou naquele grupo?”

**GABARITO: C.**

---

**18) De acordo com a norma-padrão, a palavra em destaque tem o sinal indicativo de crase empregado corretamente em:**

- A) Devido à uma dieta balanceada, Isadora conseguia manter o corpo bonito.
- B) As amigas a convenceram à fazer as fotos para a campanha de um hospital.
- C) O dinheiro arrecadado com os calendários seria destinado à causas nobres.
- D) E no dia marcado, lá estava ela, sem roupa, tranquila, à frente do fotógrafo.
- E) Isadora não imaginava que o calendário a levaria à caminho da felicidade.

**COMENTÁRIO:**



## Simulado 01: PM-SP (Soldado)

Alternativa A está errada. Não há crase antes de pronome indefinido. O correto seria: “Devido a uma dieta balanceada, Isadora conseguia manter o corpo bonito.”

Alternativa B está errada. O uso de crase antes de verbo é proibido. Ok? O correto seria: “As amigas a convenceram a fazer as fotos para a campanha de um hospital.”

Alternativa C está errada. O correto seria: “...destinado a causas nobres ou destinado às causas nobres. “No primeiro caso, há somente a preposição “a”, ou seja, inexistente contração. No segundo, temos a contração da preposição a + artigo as (referente às causas nobres)

Alternativa D está correta, logo, nosso gabarito. Estamos diante de uma locução adverbial feminina .  
“E no dia marcado, lá estava ela, sem roupa, tranquila, à frente do fotógrafo.”

Alternativa E está incorreta. Proibida a utilização de crase antes de substantivos masculinos. O correto seria: “Isadora não imaginava que o calendário a levaria a caminho da felicidade.”

**GABARITO: D.**

---

### 19) Assinale a alternativa que completa correta e respectivamente as lacunas da frase a seguir.

Os poetas, devido \_\_\_\_ uma enorme capacidade de expressão, nos fazem aspirar \_\_\_\_ momentos de encanto e emoção \_\_\_\_ que somos levados através de suas obras.

- A) à ... aqueles ... a
- B) a ... aqueles ... à
- C) a ... àqueles ... à
- D) à ... àqueles ... à
- E) a ... àqueles ... a

**COMENTÁRIO:**

Pessoal, vamos por partes nesta questão. Primeiro, não há ocorrência de crase antes de pronome indefinido. O correto seria: “Os poetas, devido a uma enorme...”

Segundo, quem aspira(intencionar/desejar), aspira a alguma coisa. A contração da preposição A(do verbo aspirar) + Aqueles(pronome)= àqueles. Certo?

Terceiro, não há ocorrência de crase antes do pronome “que”. O correto seria: “...momentos de encanto e emoção a que somos levados através de suas obras.”

**GABARITO: E.**

---

### 20) Assinale a alternativa em que a frase está correta quanto à regência e ao emprego do acento indicativo de crase.

- A) O jovem jornalista chegou imaginar que ficaria um tempo à casa dos amigos, mas não tanto.
- B) A sua rotina em uma das casas em que morou limitava-se à beber cerveja com seus colegas.
- C) A compulsão em procurar não deve se sobrepor à vontade em achar um lugar para morar.
- D) Quem procura apartamento necessita de um pouco de sorte e estar aberto à perambulação.
- E) Qualquer imóvel está sujeito à problema, o que significa que será difícil encontrar um perfeito.

**COMENTÁRIO:**

Alternativa A está errada. Quem chega, chega A. O correto seria: “O jovem jornalista chegou a imaginar...” Ademais, quem fica EM. O correto seria: “...ficaria um tempo na casa dos amigos, mas não tanto.”

Alternativa B está errada. Lembrem-se de que proibido uso de crase antes de verbo. O correto seria: “A sua rotina em uma das casas em que morou limitava-se a beber cerveja com seus colegas.”

Alternativa C está errada. Neste caso, o uso de crase está correto. A incorreção reside na colocação pronominal, pois o pronome “se” deveria está entre a palavra atrativa NÃO e o verbo DEVER. O correto seria: “A compulsão em procurar não se deve sobrepor à vontade em achar um lugar para morar.”

Alternativa D está correta. Quem está aberto, está aberto A algo/alguma coisa. Ok?  
“Quem procura apartamento necessita de um pouco de sorte e estar aberto à perambulação.”

## Simulado 01: PM-SP (Soldado)

Alternativa E está errada. Proibido uso de crase antes de substantivo masculino. O correto seria: "Qualquer imóvel está sujeito a problemas, o que significa que será difícil encontrar um perfeito."

**GABARITO: D.**

---

### MATEMÁTICA

**21) Três reuniões pedagógicas, com durações de 1 hora e 10 minutos, 45 minutos e 1 hora e 55 minutos, seguiram- -se umas às outras, sem ocorrer intervalo entre elas. A duração total dessas três reuniões foi de**

- A) 3 horas e 50 minutos.
- B) 3 horas e 40 minutos.
- C) 3 horas e 30 minutos.
- D) 3 horas e 20 minutos.
- E) 3 horas e 10 minutos.

**Comentário:**

A duração de 1 hora e 10 minutos é igual a 70 minutos.

A duração de 45 minutos é igual a  $\frac{3}{4}$  de hora.

A duração de 1 hora e 55 minutos é igual a 95 minutos.

Portanto, a duração total das três reuniões é igual a:  $70 + \frac{3}{4} + 95 = \frac{200}{4} = 50$

Em horas, essa duração é igual a:  $50 / 60 = \frac{5}{6} = 0,83$

Portanto, a resposta correta é a alternativa (A), 3 horas e 50 minutos.

**GABARITO: LETRA A.**

---

**22) Amanda corre 25% mais rápido do que Beatriz (ou seja, para um mesmo intervalo de tempo, Amanda terá percorrido uma distância 25% maior do que a percorrida por Beatriz). Um dia, elas apostaram corrida, na qual partiram da mesma posição e correram até chegarem à linha de chegada. Comparando os tempos em que cada uma das meninas completou a corrida, é correto afirmar que o tempo gasto por Amanda corresponde, do tempo gasto por Beatriz, a**

- A) 72%.
- B) 74%.
- C) 76%.
- D) 78%.
- E) 80%.

**Comentário:**

A questão nos diz que Amanda corre 25% mais rápido que Beatriz, ou seja, a velocidade de Amanda é 1,25 vezes a velocidade de Beatriz.

Considerando que a distância da corrida seja  $x$ , o tempo gasto por Beatriz para percorrer essa distância é  $x/v$ , onde  $v$  é a velocidade de Beatriz.

O tempo gasto por Amanda para percorrer a mesma distância é  $x/(1,25v)$ .

A razão entre os tempos gastos por Beatriz e Amanda é:  $x/v / x/(1,25v) = 1,25v / v$

Em porcentagem, essa razão é igual a:  $(1,25v / v * 100)\% = 125\%$

Portanto, o tempo gasto por Amanda corresponde a  $(100 * 125) / 100 = 80\%$  do tempo gasto por Beatriz.

Portanto, a resposta correta é (E), 80%.

**GABARITO: LETRA A.**

---

## Simulado 01: PM-SP (Soldado)

23) O salão de uma biblioteca possuía, inicialmente, a forma de um retângulo, com 18 metros de comprimento e 15 metros de largura. Visando aumentar o acervo da biblioteca, foi feita uma ampliação, mantida a forma retangular, em que o comprimento foi aumentado em 50%, e a largura aumentada em 20%. Com essa ampliação, o salão da biblioteca teve sua área aumentada, em comparação com a área original, em

- A) 176 m<sup>2</sup>.
- B) 186 m<sup>2</sup>.
- C) 196 m<sup>2</sup>.
- D) 206 m<sup>2</sup>.
- E) 216 m<sup>2</sup>.

---

**Comentário:**

A área original do salão era de  $18 \text{ m} * 15 \text{ m} = 270 \text{ m}^2$ .

Após a ampliação, o comprimento do salão passou a ser  $18 \text{ m} * 1,5 = 27 \text{ m}$ .

A largura do salão passou a ser  $15 \text{ m} * 1,2 = 18 \text{ m}$ .

Portanto, a área do salão após a ampliação passou a ser  $27 \text{ m} * 18 \text{ m} = 486 \text{ m}^2$ .

A área aumentada, em comparação com a área original, é igual a  $486 \text{ m}^2 - 270 \text{ m}^2 = 216 \text{ m}^2$ .

Portanto, a resposta correta é a alternativa (E), 216 m<sup>2</sup>.

Explicação alternativa:

A área do salão após a ampliação é igual a:  $(1,5 * \text{comprimento original}) * (1,2 * \text{largura original})$

$$= (1,5 * 18) * (1,2 * 15)$$

$$= 27 * 18$$

$$= 486$$

Portanto, a área aumentada é igual a  $486 - 270 = 216 \text{ m}^2$ .

**GABARITO: LETRA E.**

---

24) Um livro é constituído de 175 páginas em formato retangular, com 20 centímetros de comprimento e 14 centímetros de largura. Todas essas páginas são feitas de um tipo de papel cuja gramatura é de 56 gramas por metro quadrado de papel. Então, desconsiderando quaisquer outros componentes, como capas e lombada, a massa total das páginas desse livro é igual a

- A) 137,2 g.
- B) 156,8 g.
- C) 274,4 g.
- D) 1370,0 g.
- E) 2744,0 g.

---

**Comentário:**

A área de cada página é igual a  $20 * 14 = 280$  centímetros quadrados.

Em metros quadrados, a área de cada página é igual a  $280 / 10000 = 0,028$  metros quadrados.

Portanto, a massa de cada página é igual a  $56 * 0,028 = 1,576$  gramas.

A massa total das 175 páginas é igual a  $175 * 1,576 = 274,4$  gramas.

Portanto, a resposta correta é a alternativa (C), 274,4 gramas.

Explicação alternativa:



## Simulado 01: PM-SP (Soldado)

A massa de uma folha de papel é igual à sua área multiplicada pela sua gramatura.

$$\text{massa} = \text{área} * \text{gramatura}$$

$$m = A * g$$

Onde:

m é a massa da folha de papel;

A é a área da folha de papel;

g é a gramatura do papel.

No caso do livro, a área de cada página é de 0,028 metros quadrados e a gramatura do papel é de 56 gramas por metro quadrado.

Portanto, a massa de cada página é igual a:  $m = 0,028 * 56$

$$m = 1,576$$

A massa total das 175 páginas é igual a  $175 * 1,576 = 274,4$  gramas.

**GABARITO: LETRA C.**

---

**25) Joelma encomendou, junto a um fornecedor, alguns livros para a biblioteca pela qual é responsável, sendo 4 exemplares da editora A, 11 exemplares da editora B e 6 exemplares da editora C. Cada exemplar da editora A custou R\$ 33,50, cada exemplar da editora B, R\$ 25,00, e cada exemplar da editora C, R\$ 18,50. Se Joelma teve um desconto de 10% sobre o valor total da encomenda, por tê-la pago à vista, terá pagado o valor de**

- A) R\$ 468,00.
  - B) R\$ 488,00.
  - C) R\$ 508,00.
  - D) R\$ 510,00.
  - E) R\$ 520,00.
- 

**Comentário:**

O valor total dos livros é de  $4 * 33,50 + 11 * 25,00 + 6 * 18,50 = \text{R\$ } 520,00$ .

Com o desconto de 10%, o valor final pago por Joelma é de  $520,00 * 0,9 = \text{R\$ } 468,00$ .

Portanto, a resposta correta é a alternativa (A), R\$ 468,00.

Aqui está a resolução passo a passo da questão:

**Passo 1:** Calcular o valor total dos livros

Valor dos livros da editora A:  $4 * 33,50 = 134,00$

Valor dos livros da editora B:  $11 * 25,00 = 275,00$

Valor dos livros da editora C:  $6 * 18,50 = 111,00$

Valor total dos livros:  $134,00 + 275,00 + 111,00 = 520,00$

**Passo 2:** Aplicar o desconto de 10%

Valor final:  $520,00 * 0,9 = 468,00$

**GABARITO: LETRA A.**

---

## Simulado 01: PM-SP (Soldado)

26) No estoque de uma empresa há somente caixas dos produtos A e B, no total de 200 caixas, de modo que a razão do número de caixas do produto A para o número de caixas do produto B é  $\frac{3}{5}$ . Após a venda de 20 caixas do produto B e nenhuma caixa do produto A, a razão citada passou a ser igual a

- A)  $\frac{2}{3}$
- B)  $\frac{5}{7}$
- C)  $\frac{3}{5}$
- D)  $\frac{2}{5}$
- E)  $\frac{4}{7}$

**Comentário:**

Aqui está a resolução passo a passo da questão:

**Passo 1:** Definir as variáveis

$x$  = número de caixas de produto A

$y$  = número de caixas de produto B

**Passo 2:** Escrever a equação da razão

$$x / y = 3/5$$

**Passo 3:** Resolver a equação para  $x$

$$x = 3/5 * y$$

**Passo 4:** Substituir o valor de  $x$  na equação da razão

$$(3/5 * y) / y = 5/7$$

$$3/5 = 5/7$$

**Passo 5:** Resolver a equação

$$7 * 3 = 5 * 5$$

$$21 = 25$$

$$21 / 25 = 5 / 7$$

Portanto, a razão entre o número de caixas de produto A e o número de caixas de produto B após a venda é de  $\frac{5}{7}$ .

Aqui está uma outra forma de resolver a questão:

Se a razão entre o número de caixas de produto A e o número de caixas de produto B é de  $\frac{3}{5}$ , então o número de caixas de produto A é  $\frac{3}{8}$  do número total de caixas.

Portanto, o número de caixas de produto A é igual a  $\frac{3}{8} * 200 = 75$ .

O número de caixas de produto B é igual a  $200 - 75 = 125$ .

Após a venda de 20 caixas de produto B, o número de caixas de produto B será igual a  $125 - 20 = 105$ .

A nova razão entre o número de caixas de produto A e o número de caixas de produto B é igual a:  $75 / 105 = 5/7$

**GABARITO: LETRA B.**

27) Um fiscal encontrou em uma feira livre um vendedor de água sanitária vendendo esse produto em um recipiente cilíndrico de diâmetro 8 cm e altura 15 cm. O produto era oferecido como se no recipiente houvesse 1 litro de água sanitária e o vendedor cobrava R\$ 2,50 por recipiente. Mantida a proporção, o preço por litro de água sanitária que esse vendedor de fato está cobrando está entre

## Simulado 01: PM-SP (Soldado)

**Dados:  $\pi=3,14$**

- A) R\$ 3,10 e R\$ 3,20.
- B) R\$ 3,00 e R\$ 3,10.
- C) R\$ 2,90 e R\$ 3,00.
- D) R\$ 3,20 e R\$ 3,30.
- E) R\$ 3,30 e R\$ 3,40.

**Comentário:**

Volume do cilindro:  $V = \pi \cdot r^2 \cdot h \rightarrow V = 3,14 \cdot 16 \cdot 15 = 753,60$ .

Volume e preço por LT são inversamente proporcionais:

$$\begin{array}{r} 753,60 \text{ ----- } 2,50 \\ X \text{ ----- } 1000 \\ 2500/753,60 = 3,31 \text{ R\$} \end{array}$$

**GABARITO: LETRA E.**

**28) A prefeitura de um município quer transformar uma região retangular de 0,85 km de comprimento por 0,70 km de largura em um espaço para construção de casas, dividindo essa região em terrenos. Cada casa ficará no centro do seu terreno e terá por base um retângulo de 10 metros por 7 metros, de modo que haja uma distância de 3 metros de cada lado desse retângulo com o terreno pertencente à casa. Descontando-se 20 % da área da região retangular original para construção de ruas e outros elementos coletivos, o número de moradias (casa e terreno) possíveis de serem construídas nessa região é de aproximadamente**

- A) 2568.
- B) 2340.
- C) 2294.
- D) 2860.
- E) 2288.

**Comentário:**

A área da região retangular original é de  $0,85 \text{ km} \cdot 0,70 \text{ km} = 0,595 \text{ km}^2 = 595.000 \text{ m}^2$ .

Depois de descontados 20 % para construção de ruas e outros elementos coletivos, a área remanescente é de  $0,8 \cdot 595.000 \text{ m}^2 = 476.000 \text{ m}^2$ .

A área de cada terreno é de  $10 \text{ m} \cdot 7 \text{ m} = 70 \text{ m}^2$ .

A distância de 3 metros de cada lado do retângulo da casa corresponde a  $3 \text{ m} \cdot 2 = 6 \text{ m}$ .

Portanto, o comprimento total de cada terreno é de  $10 \text{ m} + 6 \text{ m} + 6 \text{ m} = 22 \text{ m}$ .

A largura total de cada terreno é de  $7 \text{ m} + 6 \text{ m} + 6 \text{ m} = 25 \text{ m}$ .

Portanto, a área de cada terreno é de  $22 \text{ m} \cdot 25 \text{ m} = 550 \text{ m}^2$ .

O número de moradias (casa e terreno) possíveis de serem construídas nessa região é de  $476.000 \text{ m}^2 / 550 \text{ m}^2 = 86,4$ .

Como o número de moradias deve ser um número inteiro, o número aproximado de moradias possíveis é de (E), 2288.

Aqui está uma outra forma de resolver a questão:

O comprimento de cada terreno é de 22 m, o que corresponde a  $22 \text{ m} / 1000 \text{ m/km} = 0,022 \text{ km}$ .

A largura de cada terreno é de 25 m, o que corresponde a  $25 \text{ m} / 1000 \text{ m/km} = 0,025 \text{ km}$ .

Portanto, a área de cada terreno é de  $0,022 \text{ km} \cdot 0,025 \text{ km} = 0,00055 \text{ km}^2 = 550 \text{ m}^2$ .



## Simulado 01: PM-SP (Soldado)

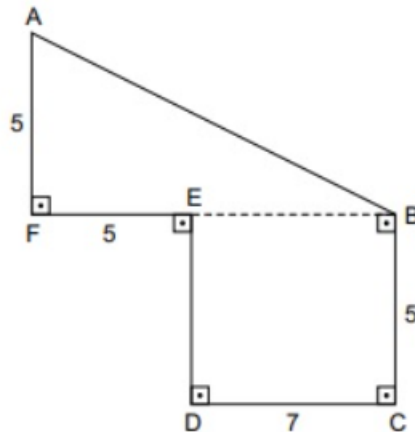
O número de moradias (casa e terreno) possíveis de serem construídas nessa região é de  $476.000 \text{ m}^2 / 550 \text{ m}^2 = 86,4$ .

Como o número de moradias deve ser um número inteiro, o número aproximado de moradias possíveis é de (E), 2288.

**GABARITO: LETRA E.**

---

29) Observe a figura a seguir para responder à questão.



Essa figura representa o contorno de um terreno. As medidas da figura estão expressas em decâmetros. Considere a seguinte relação de medidas: 1 decâmetro corresponde a 10 metros.

A área do terreno, em metros quadrados, é igual a

- A) 5800.
- B) 9500.
- C) 6500.
- D) 6750.
- E) 8900.

**Comentário:**

Área do Triângulo:  $b \times h / 2$

Base:  $5+7 = 12$  | Altura: 5

Área do Triângulo =  $12 \times 5 / 2 = 30$  decâmetros<sup>2</sup>;

Área do Retângulo =  $b \times h = 5 \times 7 = 35$  decâmetros<sup>2</sup>.

Total = 65 decâmetros = 65 dc<sup>2</sup> para m<sup>2</sup> =  $65 \times 100 = 6.500$ .

**GABARITO: LETRA C.**

---

30) Sabe-se que 1 mL corresponde a 20 gotas. Um paciente deve receber a administração de 360 mL de soro. Essa administração deve durar 6 horas. A quantidade de gotas por minuto que deve ser administrada para esse paciente é igual a

- A) 12.
- B) 20.
- C) 15.
- D) 18.
- E) 24.

**Comentário:**

A quantidade de gotas que deve ser administrada é de  $360 \text{ mL} \times 20 \text{ gotas/mL} = 7200$  gotas.

## Simulado 01: PM-SP (Soldado)

O tempo total de administração é de 6 horas \* 60 minutos/hora = 360 minutos.

A quantidade de gotas por minuto que deve ser administrada é de 7200 gotas / 360 minutos = 20 gotas/minuto.

Portanto, a resposta correta é (B), 20.

**GABARITO: LETRA B.**

---

**31) Um auxiliar de escritório foi incumbido de arquivar determinado número de prontuários. No primeiro dia de trabalho, ele arquivou a terça parte dos prontuários. No segundo dia de trabalho, arquivou a quarta parte dos prontuários que ainda não haviam sido arquivados. No terceiro dia de trabalho, ele arquivou 15 prontuários, e outros 45 prontuários, que não faziam parte dos prontuários originais, chegaram para arquivamento, mas não foram arquivados no terceiro dia. No quarto dia ele arquivou 50 prontuários, no quinto dia ele arquivou 55 prontuários e encerrou o trabalho.**

**O total de prontuários arquivados pelo auxiliar é um número compreendido entre**

- A) 200 e 215.
  - B) 185 e 200.
  - C) 170 e 185.
  - D) 140 e 155.
  - E) 155 e 170.
- 

**Comentário:**

1 Dia -  $1/3P$

2 Dia -  $(1/4).(2/3P) = 1/6P$

3 Dia - 15

4 Dia - 50

5 Dia - 55

Somando tudo teremos o total P.

Como chegaram + 45 temos o total =  $P+45$ .

Somando os dias.

$1/3P + 1/6P + 120 = X + 45$  (total)

$3P + 720 = 6P+270$

$3P = 450$

$P = 150$ .

Total =  $P + 45$

$150 + 45 = 195$ .

**GABARITO: LETRA B.**

---

**32) Para a aquisição de um equipamento, foram feitos os orçamentos A, B, C e D. Adicionados os valores dos orçamentos A e B, a soma é de R\$ 15.000,00; adicionados os valores dos orçamentos B e C, a soma é de R\$ 18.000,00; e subtraído o valor do orçamento D do valor do orçamento B, a diferença é de R\$ 1.000,00. Sabendo que o valor do menor orçamento é R\$ 1.500,00 menor que a média aritmética simples dos quatro orçamentos, ele foi de**

- A) R\$ 8.500,00.
- B) R\$ 8.000,00.
- C) R\$ 7.500,00.



## Simulado 01: PM-SP (Soldado)

D) R\$ 7.000,00.

E) R\$ 6.500,00.

**Comentário:**

Primeiro, isole a variável B nas três primeiras premissas:

$$A + B = 15000$$

$$B + C = 18000$$

$$B - D = 1000$$

$$A = 15000 - B$$

$$C = 18000 - B$$

$$D = B - 1000$$

Em seguida, você substitua essas expressões para B na equação da média aritmética:

$$(A + B + C + D) / 4 - 1500 = \text{menor orçamento}$$

$$(15000 - B) + B + (18000 - B) + (B - 1000) / 4 - 1500 = \text{menor orçamento}$$

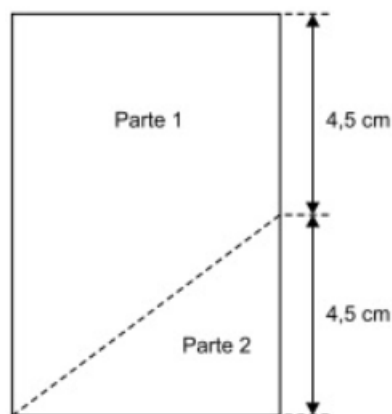
$$32000 / 4 - 1500 = \text{menor orçamento}$$

$$8000 - 1500 = \text{menor orçamento}$$

$$6500 = \text{menor orçamento}$$

**GABARITO: LETRA E.**

**33) Um pedaço de papel retangular, com perímetro de 30 cm, Rascunho será dividido em duas partes, conforme esboçado na figura a seguir:**



**Após dividido, o perímetro da parte 1 será de**

A) 26,0 cm.

B) 26,5 cm.

C) 27,0 cm.

D) 27,5 cm.

E) 28,0 cm.

**Comentário:**

Primeiro, isole a variável B nas três primeiras premissas:

Perímetro retângulo = 30cm

## Simulado 01: PM-SP (Soldado)

2 Lados = 9 cm + 9 cm;

2 Lados menores = 6 cm + 6 cm.

Teorema de Pitágoras:  $H^2 = Cat1^2 + Cat2^2$

$h^2 = 6^2 + 4,5^2 \rightarrow h^2 = 36 + 20,25 \rightarrow h^2 = 56,25 \rightarrow h=7,5$ .

Perímetro da Parte 1 = 9 + 6 + 7,5 + 4,5 = 27 cm.

**GABARITO: LETRA C.**

---

**34) Em uma piscina, há três sistemas de escoamento da água, todos com a mesma vazão. Abertos ao mesmo tempo, o volume total de água da piscina é escoado em 2 horas e 20 minutos. Para escoar metade do volume total de água dessa piscina, com apenas dois desses sistemas, abertos ao mesmo tempo, o tempo estimado é de**

- A) 1 hora e 25 minutos
  - B) 1 hora e 39 minutos.
  - C) 1 hora e 45 minutos.
  - D) 2 horas e 05 minutos.
  - E) 2 horas e 11 minutos.
- 

**Comentário:**

Para resolver este problema, precisamos entender como o tempo de escoamento da água está relacionado à vazão dos sistemas de escoamento.

Se três sistemas de escoamento, todos com a mesma vazão, escoam o volume total de água em 2 horas e 20 minutos (ou 140 minutos), isso significa que cada sistema contribui com um terço do escoamento total.

Se abrirmos apenas dois desses sistemas para escoar metade do volume total de água, cada um ainda contribuirá com a mesma vazão, mas agora só temos 2/3 da capacidade total de escoamento.

Vamos definir a vazão de um sistema como  $V$ . Assim, a vazão total com os três sistemas abertos seria  $3V$ . O tempo para escoar o volume total de água,  $T$ , é de 140 minutos. O volume total de água, portanto, pode ser descrito como  $3V \times 140$ .

Agora, para escoar metade do volume total com dois sistemas, o volume a ser escoado seria:

$$\frac{1}{2} \times 3V \times 140 = 1,5V \times 140.$$

A vazão disponível com dois sistemas é  $2V$ , então o tempo necessário,  $t$ , pode ser calculado como:

$$t = \frac{\text{Volume a ser escoado}}{\text{Vazão}} = \frac{1,5V \times 140}{2V}$$

Simplificando:  $t = \frac{1,5 \times 140}{2} = \frac{210}{2} = 105 \text{ minutos}$

Converter 105 minutos em horas e minutos nos dá 1 hora e 45 minutos.

**GABARITO: LETRA C.**

---

**35) Tem-se uma quantidade, menor que 100 unidades, de certo produto que pode ser separado em grupos contendo 12 unidades cada, ou em grupos contendo 14 unidades cada, sem sobras. Para que essa quantidade de produtos possa ser separada em grupos contendo 13 unidades cada, o número mínimo de unidades que devem ser adicionadas à quantidade que se tem deve ser igual a**

- A) 5.
- B) 6.
- C) 7.

## Simulado 01: PM-SP (Soldado)

- D) 8.  
E) 9.

---

### Comentário:

Para resolver esse problema, precisamos encontrar um número menor que 100 que seja divisível tanto por 12 quanto por 14 e, a partir dele, determinar quantas unidades precisam ser adicionadas para que o número resultante seja divisível por 13.

Os múltiplos de 12 e 14 têm um mínimo múltiplo comum (MMC). O MMC de 12 e 14 é o menor número que pode ser dividido por ambos sem deixar resto. O MMC de 12 (que é  $2^2 \times 3$ ) e 14 (que é  $2 \times 7$ ) é  $2^2 \times 3 \times 7 = 84$ .

Portanto, 84 é um número que pode ser dividido tanto por 12 quanto por 14 sem deixar resto.

Agora, precisamos encontrar o menor número, a partir de 84, que seja divisível por 13. Vamos adicionar unidades a 84 e verificar a divisibilidade por 13:

- $84+1=85$  (não divisível por 13)
- $84+2=86$  (não divisível por 13)
- $84+3=87$  (não divisível por 13)
- $84+4=88$  (não divisível por 13)
- $84+5=89$  (não divisível por 13)
- $84+6=90$  (não divisível por 13)
- $84+7=91$  (divisível por 13, pois  $91 = 13 \times 7$ )

Portanto, precisamos adicionar 7 unidades a 84 para que o número resultante seja divisível por 13.

A resposta correta é, portanto, a alternativa C, 7.

**GABARITO: LETRA C.**

---

## CONHECIMENTOS GERAIS

### 36) Sobre o nazifascismo, as afirmações a seguir estão corretas, EXCETO:

- A) O nazismo, abreviação de Nacional Socialismo, é o nome de uma ideologia política essencialmente racista, disseminada amplamente pelo Partido Nacional Socialista dos Trabalhadores Alemães, que foi criado em 1920, por Anton Drexler, na Alemanha.
- B) Gestapo é o nome dado às comunidades políticas que se formaram em oposição ao nazismo.
- C) Adolf Hitler, no início da década de 1920, assumiu a liderança do Partido Nacional Socialista dos Trabalhadores Alemães, que passou a se chamar Partido Nacional Socialista ou Partido Nazista.
- D) Hitler, em sua biografia, denominada Mein Kampf, delineou o antissemitismo – baseado no preconceito e no ódio contra os judeus – e o anticomunismo como bases de sua filosofia política.
- E) O povo alemão, no início do regime nazista na Alemanha, apoiava e acreditava na ideologia pregada por Hitler, que sempre entoava um discurso de salvação nacional, de melhorias na economia e de superioridades racial e cultural germânicas.

---

### COMENTÁRIO:

A afirmação incorreta entre as opções dadas é:

- B) Gestapo é o nome dado às comunidades políticas que se formaram em oposição ao nazismo.

Na verdade, a Gestapo era a polícia secreta do Estado nazista, conhecida por sua brutalidade e por desempenhar um papel fundamental na perseguição de judeus, opositores políticos e outros grupos considerados indesejáveis pelo regime nazista. A Gestapo não era uma comunidade política de oposição ao nazismo, mas sim um instrumento de repressão e terror dentro do próprio regime.

**GABARITO: B.**

---

## Simulado 01: PM-SP (Soldado)

**37) Essa instabilidade era igualmente evidente para os EUA, protetores do status quo global que a identificavam com o comunismo soviético, ou pelo menos a encaravam como uma vantagem permanente e potencial para o outro lado na grande luta global pela supremacia.**

**(Eric Hobsbawm, Era dos extremos – O breve século XX – 1914-1991, 1995)**

O excerto traz referências ao contexto

A) neoliberal, mediante a divisão do globo entre China e EUA, diante das disputas econômicas que caracterizaram o mundo nesse período, com ênfase ao papel de mediação exercido pelos russos nesse processo.

B) da Guerra Fria, na qual as ações e estratégias consideravam o chamado terceiro mundo como elemento central nessa disputa, razão pela qual, uma série de golpes e revoluções, ocorreu em quase todos os países terceiro mundistas.

C) de estabilidade vivenciada nos países do chamado cone sul após os desdobramentos políticos ocorridos mediante o Pacto de Moncloa entre as potências vencedoras da Segunda Guerra Mundial.

D) latino-americano, que, de maneira unânime, se posicionou, por meio de seus governantes, ao lado dos EUA nas disputas territoriais que caracterizaram as disputas em torno do comércio global.

E) brasileiro, durante a ditadura cívico-militar, que atuou em parceria com países aliados da URSS, como a China e Cuba, vislumbrando benefícios políticos e econômicos para o país.

---

### COMENTÁRIO:

Alternativa A está incorreta, pois menciona a divisão do globo entre China e EUA, o que não corresponde ao contexto descrito no excerto. O texto refere-se à Guerra Fria e à identificação de instabilidade pelos EUA em relação ao comunismo soviético. Ademais, não se pode afirmar uma interferência dos russos na disputa neoliberal entre China e EUA.

Alternativa B é o gabarito de nossa questão. O excerto menciona os Estados Unidos (EUA) como protetores do status quo global, identificando a instabilidade com o comunismo soviético, destacando a luta global pela supremacia entre essas duas potências durante a Guerra Fria.

Alternativa C está incorreta, já que faz referência à estabilidade vivenciada nos países do chamado cone sul após os desdobramentos políticos ocorridos mediante o Pacto de Moncloa entre as potências vencedoras da Segunda Guerra Mundial. Essa descrição não se alinha ao contexto da Guerra Fria e à instabilidade mencionada no excerto.

Alternativa D está incorreta, pois o excerto não diz respeito à América Latina, mais sim à Guerra Fria.

Alternativa E está incorreta, visto que o excerto não se refere ao período da ditadura cívico-militar brasileira, sugerindo uma atuação em parceria com países aliados da URSS, como China e Cuba. O excerto não aborda especificamente a posição do Brasil durante a ditadura em relação a aliados da URSS.

**GABARITO: B.**

---

**38) Entre 1939 e 1945 a Segunda Guerra Mundial causou um cenário de guerra total e fez com que nações se enfrentassem na Europa, África, Ásia e Oceania. Sobre o conflito, assinale a alternativa correta.**

A) Após o término do conflito foram criados tribunais de julgamento de crimes de guerra cometidos pelos combatentes alemães e japoneses. Como exemplo, podemos citar o Tribunal Militar Internacional de Nuremberg e o Tribunal Internacional para o Extremo Oriente

B) Houve um fortalecimento da Organização das Nações Unidas, que havia sido criada ao final da Primeira Guerra Mundial

C) O final do conflito representou também o final da bipolarização do mundo, com os soviéticos de um lado e os estadunidenses de outro

D) Embora importante, não se pode afirmar que a razão para o início do conflito tenha sido derivada do expansionismo alemão

E) A chamada Batalha de Stalingrado não foi um episódio importante na derrocada final do eixo

---

### COMENTÁRIO:

Letra A: Correta.

A) Após o término do conflito foram criados tribunais de julgamento de crimes de guerra cometidos pelos combatentes alemães e japoneses. Como exemplo, podemos citar o Tribunal Militar Internacional de Nuremberg e o Tribunal Internacional para o Extremo Oriente.

## Simulado 01: PM-SP (Soldado)

Estes tribunais foram estabelecidos para julgar líderes nazistas e japoneses por crimes de guerra, crimes contra a humanidade e outros crimes cometidos durante a Segunda Guerra Mundial. O Tribunal de Nuremberg é o mais famoso e julgou figuras de destaque do regime nazista, enquanto o Tribunal Internacional para o Extremo Oriente focou nos crimes de guerra japoneses.

Letra B: Errada.

Esta afirmação é incorreta. A Organização das Nações Unidas (ONU) foi criada após o fim da Segunda Guerra Mundial, em 1945, e não ao final da Primeira Guerra Mundial. Após a Primeira Guerra Mundial, foi criada a Liga das Nações, uma organização diferente que visava garantir a paz mundial, mas que acabou sendo ineficaz e foi substituída pela ONU.

Letra C: Errada.

Na verdade, o final da Segunda Guerra Mundial marcou o início da bipolarização do mundo, dando início à Guerra Fria. Este período foi caracterizado pela divisão do mundo em dois blocos principais: um liderado pela União Soviética (soviéticos) e outro pelos Estados Unidos, com ideologias políticas e econômicas opostas.

Letra D: Errada.

O expansionismo alemão, sob a liderança de Adolf Hitler, foi, de fato, uma das principais causas da Segunda Guerra Mundial. A agressiva política expansionista da Alemanha, incluindo a anexação da Áustria (Anschluss) e a invasão da Polônia, provocou a declaração de guerra por parte do Reino Unido e França, marcando o início do conflito.

Letra E: Errada.

A Batalha de Stalingrado foi um dos pontos de virada mais significativos da Segunda Guerra Mundial. A derrota do exército alemão nesta batalha marcou o início da derrocada do Eixo na Frente Oriental e foi crucial para o curso geral da guerra. A vitória soviética em Stalingrado teve um impacto profundo na moral dos Aliados e foi um duro golpe para as forças do Eixo.

**GABARITO: A.**

---

**39) A Revolução de Outubro articulou-se conosco, venceu com o nosso sangue, revigorou-se com o nosso idealismo, armou-se com a força dos nossos estados, mas ela nem nasceu da Aliança Liberal, nem do heroísmo de Copacabana, nem da audácia dos cruzadores do nosso sertão. Ela não é militar, nem civil: é ela mesma. Não tem dono, nem senhores, nem chefes. [...] Suas origens são longínquas e obscuras, vêm do passado que violou as leis econômicas e as sociais, e os seus destinos perdem-se num futuro, cujo mistério ultrapassa o estado atual dos nossos conhecimentos.**

[Apud Vavy Pacheco Borges. Em Marcos Cezar de Freitas (org.). *Historiografia brasileira em perspectiva*]

**Oswaldo Aranha trata**

- A) do Golpe de 64.
  - B) da Revolução de 30.
  - C) da decretação do Estado Novo.
  - D) da Proclamação da República.
  - E) da Revolução Constitucionalista de 32.
- 

**COMENTÁRIO:**

O trecho citado de Oswaldo Aranha está referindo-se à Revolução de 1930. Portanto, a resposta correta é:

- B) da Revolução de 30.

A Revolução de 1930 foi um movimento que resultou no fim da República Velha e na ascensão de Getúlio Vargas ao poder no Brasil. Este movimento não foi puramente militar ou civil, mas uma combinação de descontentamentos políticos, econômicos e sociais. A fala de Aranha destaca que a Revolução de 1930 não teve suas origens em um único evento ou grupo, mas foi o resultado de um longo processo histórico.

**GABARITO: B.**

---

**40) Qual foi a relação entre o governo de João Goulart e as Ligas Camponesas, e como essa relação contribuiu para o clima político que culminou no golpe militar de 1964?**

## Simulado 01: PM-SP (Soldado)

- A) As Ligas Camponesas foram criadas durante o governo de Juscelino Kubitschek, antes de Goulart assumir o poder, e sua atuação contribuiu para o clima de instabilidade política que precedeu o golpe militar.
- B) Goulart tinha uma relação conflituosa com as Ligas Camponesas, que cobravam dele medidas mais radicais em defesa da reforma agrária, enquanto ele buscava manter o equilíbrio entre os setores políticos.
- C) Goulart adotou medidas repressivas contra as Ligas Camponesas, o que gerou insatisfação dos movimentos sociais e culminou em uma série de protestos e manifestações que foram reprimidos pelo regime militar.
- D) Goulart apoiou as Ligas Camponesas e incentivou a criação de movimentos populares, o que gerou resistência dos setores conservadores da sociedade brasileira.

---

### COMENTÁRIO:

- A) Incorreta - A opção traz informações acertadas, porém não esclarece de forma adequada a relação entre o presidente João Goulart e as Ligas Camponesas durante seu mandato de 1961 a março de 1964.
- B) Incorreta - As demandas das Ligas Camponesas ganharam impulso com as políticas implementadas por João Goulart, especialmente as Reformas de Base de 1963, que tinham a reforma agrária como um de seus principais objetivos. Esta reforma era uma reivindicação chave das Ligas Camponesas, especialmente no Nordeste do Brasil.
- C) Incorreta - A interação entre Goulart e as Ligas Camponesas não era de conflito, nem houve repressão direta por parte dele. No final do seu governo, houve várias manifestações populares que foram usadas como justificativa para o golpe militar, sob a acusação de serem "comunistas". Estas manifestações não eram exclusivamente ligadas às demandas das Ligas, mas também incluíam propostas de diversos grupos sociais e profissionais.
- D) Correta - Como membro do Partido Trabalhista e sucessor político de Getúlio Vargas, João Goulart procurou adotar políticas focadas em grupos sociais formados por trabalhadores assalariados. Isso encontrou oposição dos setores mais conservadores da sociedade, que temiam a "ameaça comunista" frequentemente associada a essas reivindicações.

---

### GABARITO: D.

---

**41) Um momento muito importante da história do Brasil, marcado pela criação de diversos direitos trabalhistas, entre eles o salário mínimo, da criação da Justiça do Trabalho e de grandes investimentos na infraestrutura do país, aconteceu com a Revolução de 1930 e a chegada de Getúlio Vargas ao poder. Esse período ficou conhecido como:**

- A) Período Getuliano.
- B) Governo Getulista.
- C) Governo Popular.
- D) Era Vargas.

---

### COMENTÁRIO:

Esse momento importante na história do Brasil, marcado pela implementação de vários direitos trabalhistas, como o salário mínimo, a criação da Justiça do Trabalho, e significativos investimentos em infraestrutura, ocorreu com a Revolução de 1930 e a ascensão de Getúlio Vargas ao poder. Esse período é conhecido como Era Vargas.

---

### GABARITO: D.

---

**42) No Brasil, somente a partir dos anos 80 que a sociedade alcança os primeiros avanços rumo à constitucionalização de novos direitos sociais, trabalhistas e políticos. Embora, a partir desse contexto, aos brasileiros foram ampliados os acessos a serviços públicos não mercantis e a oferta de benefícios sociais, a seguridade brasileira pós-1988, de orientação e conteúdo próximo ao modelo de bem-estar social, não se traduziu como uma política universal. Outros fatores contribuíram para isso, tais como, as características excludentes do mercado de trabalho, o nível de concentração de renda e o processo de publicização do Estado, que se mostrou**

- A) amplo.
- B) genérico.
- C) adequado.
- D) concreto.
- E) frágil.

---

### COMENTÁRIO:

## Simulado 01: PM-SP (Soldado)

Os fatores mencionados, como as características excludentes do mercado de trabalho, o nível de concentração de renda e o processo de publicização do Estado, sugerem que a implementação da seguridade social no Brasil enfrenta desafios e limitações, resultando em uma fragilidade na sua abrangência e eficácia como uma política universal. Portanto, gabarito de nossa questão está na alternativa E.

**GABARITO: E.**

---

**43) O fenômeno da globalização cultural está em curso, pelo menos, desde a época das grandes viagens marítimas no século XVI, de que resultou a colonização das Américas, com intensificação potencializada após a Segunda Guerra Mundial e nas últimas décadas.**

(Coelho, Teixeira. Dicionário Crítico de Política Cultural. Adaptado).

**A intensificação da globalização cultural se deu após a Segunda Guerra Mundial, graças**

- A) aos processos de migração no contexto da Europa em conflito.
  - B) à distribuição de produtos industrializados norte-americanos.
  - C) à grande aceitação da língua inglesa como uma língua universal.
  - D) à necessidade de padronização cultural na luta contra o fascismo.
  - E) ao aperfeiçoamento dos meios de comunicação de massa e da informática.
- 

**COMENTÁRIO:**

A globalização cultural refere-se à disseminação de ideias, valores, produtos e práticas culturais em escala global. O aperfeiçoamento dos meios de comunicação de massa e da informática desempenhou um papel crucial nesse fenômeno, permitindo uma maior interconexão entre as culturas ao redor do mundo.

Após a Segunda Guerra Mundial, houve avanços significativos nos meios de comunicação, como a televisão e a rádio, que possibilitaram uma difusão mais rápida e abrangente da cultura. Além disso, o desenvolvimento da informática e, mais tarde, a ascensão da internet na década de 1990, permitiram uma conectividade instantânea e a troca de informações culturais em tempo real, transcendendo fronteiras geográficas.

A alternativa E é nosso gabarito, pois destaca essa evolução tecnológica como um dos principais impulsionadores da intensificação da globalização cultural no período pós-Segunda Guerra Mundial.

**GABARITO: E.**

---

**44) Fenômeno que é uma das principais fontes de variabilidade climática interanual, sendo definido como uma oscilação acoplada do oceano-atmosfera, que produz alterações na temperatura da superfície do mar, na pressão, no vento e na convecção tropical, principalmente no Oceano Pacífico, mas com reflexos em muitos lugares do planeta, incluindo o Brasil. Trata-se do fenômeno**

- A) La Niña.
  - B) Célula meridional de Walker.
  - C) El Niño-Oscilação Sul.
  - D) Célula zonal de Hadley.
  - E) El Niño.
- 

**COMENTÁRIO:**

O gabarito de nossa questão é alternativa C, pois o El Niño-Oscilação Sul (ENOS) é um fenômeno climático complexo que envolve uma interação entre a atmosfera e o oceano Pacífico tropical. Ele ocorre em ciclos irregulares, geralmente a cada 2 a 7 anos, e pode ter impactos significativos nas condições climáticas globais.

Normalmente, o Pacífico tropical apresenta ventos alísios que sopram do leste para o oeste, levando águas mais quentes para o oeste. No entanto, durante o El Niño, esses ventos enfraquecem ou até mesmo se invertem, resultando no aquecimento anormal das águas do Pacífico central e leste. Isso afeta os padrões climáticos em todo o mundo.

Vejamos a definição das demais alternativas:

Alternativa A. La Niña é um fenômeno climático oposto ao El Niño. Durante a La Niña, as águas da superfície do Oceano Pacífico tropical ficam mais frias do que o normal. Isso pode levar a padrões climáticos distintos, como chuvas acima da média em algumas regiões (por exemplo, na Indonésia e Austrália) e condições mais secas em

## Simulado 01: PM-SP (Soldado)

outras (como no noroeste dos Estados Unidos e Canadá). A La Niña também pode influenciar a formação de furacões no Atlântico.

Alternativa B. Célula meridional de Walker: Refere-se a uma célula de circulação atmosférica que opera entre o Equador e os polos. Ela contribui para a redistribuição de calor e umidade na atmosfera. A célula meridional de Walker está associada aos ventos alísios e à formação de áreas de alta e baixa pressão.

Alternativa D. Célula zonal de Hadley: É uma célula de circulação atmosférica que opera entre o equador e aproximadamente 30 graus de latitude. Essa célula desempenha um papel crucial na redistribuição de calor da região equatorial para as latitudes mais altas, contribuindo para a formação de áreas de alta pressão e ventos alísios.

Alternativa E. El Niño é um fenômeno climático caracterizado pelo aquecimento anormal das águas superficiais do Oceano Pacífico tropical. Isso afeta padrões climáticos em todo o mundo, causando eventos extremos como secas, chuvas intensas e mudanças nas temperaturas. El Niño é parte do fenômeno El Niño-Oscilação Sul (ENOS).

**GABARITO: C.**

---

**45) A Pesquisa Nacional por Amostra de Domicílios (PNAD) revela que, no Brasil, cerca de 85% da população vive em áreas urbanas. Caracteriza(m) um fator que contribui para esse predomínio**

- A) a mecanização da produção agrícola, que reduziu a oferta de trabalho no campo.
- B) o elevado uso de agrotóxicos, que estimulou a busca de qualidade de vida nas cidades.
- C) a estagnação do agronegócio como motor para a produção no campo.
- D) as políticas públicas municipais para atrair mão de obra qualificada.

**COMENTÁRIO:**

O gabarito de nossa questão é a alternativa A, já que a mecanização da agricultura contribui para a diminuição da demanda por mão de obra no setor rural, levando muitas pessoas a migrarem para áreas urbanas em busca de oportunidades de emprego e uma melhor qualidade de vida.

**GABARITO: A.**

---

**46) Segundo a UNESCO (Organização das Nações Unidas para a Educação, a Ciência e a Cultura), a região brasileira é a "terceira maior reserva da biosfera do mundo" e abriga uma valiosa diversidade de flora e fauna. Um levantamento do INPE (Instituto Nacional de Pesquisas Espaciais) publicado pelo portal G1, em 01 de setembro de 2020, informa que no mês de agosto daquele ano foram registrados, na região, 5 935 focos de calor, número que só foi menor do que foi verificado em 2005, quando foram contabilizados 5 993 focos.**

(G1. Disponível em <https://glo.bo/3xL48aX>. Adaptado. Acesso em 13.08.2021)

**Os dados mencionados referem-se**

- A) à Caatinga.
- B) ao Cerrado.
- C) ao Pantanal.
- D) à Amazônia.
- E) ao Pampa.

**COMENTÁRIO:**

A alternativa correta é a letra C, pois se refere à "região brasileira" que é a "terceira maior reserva da biosfera do mundo". O Pantanal, uma das maiores planícies alagadas do mundo, é reconhecido como Patrimônio Mundial e Reserva da Biosfera pela UNESCO.

**GABARITO: C.**

---

**47) O novo Marco Global da Biodiversidade, que foi acordado em dezembro de 2022, por quase 200 países participantes da 15ª Conferência da ONU sobre Biodiversidade (COP15), Montreal, no Canadá, é um resultado histórico, negociado ao longo de quatro anos – com atrasos em função da pandemia – e que está sendo considerado por especialistas como o equivalente em importância ao Acordo Climático de Paris, porém, com foco na biodiversidade.**

(VEJA. <https://bit.ly/3YYKExR>. 28.12.2022)

**Uma das metas mais ambiciosas estabelecidas pelos países participantes da Conferência foi**

- A) a adoção de políticas de reflorestamento com espécies exóticas.



## Simulado 01: PM-SP (Soldado)

- B) a introdução de educação ambiental em todos os níveis de ensino.
- C) a criação de programas destinados à divulgação pelas mídias locais.
- D) a conservação de 30% dos habitats terrestres e aquáticos até 2030.
- E) o apoio financeiro aos países que já extinguiram a biodiversidade original.

---

### COMENTÁRIO:

A alternativa correta é a opção D, pois essa meta visa à conservação de uma parcela significativa dos ecossistemas terrestres e aquáticos para proteger a biodiversidade global. Essa iniciativa visa abordar a perda contínua da biodiversidade e preservar os habitats naturais essenciais para a variedade de formas de vida na Terra.

**GABARITO: D.**

---

**48) Políticas públicas em todo o mundo têm sido reorientadas para o cumprimento dos Objetivos de Desenvolvimento Sustentável (ODS). No Brasil, o cumprimento dos ODS está seriamente comprometido.**

(Carta Capital. <https://bit.ly/3la1jZy>. 06.12.2022)

**No Brasil, entre as metas cruciais dos ODS não cumpridas está**

- A) a alta proporção da população vivendo abaixo da linha da pobreza.
- B) o fraco crescimento vegetativo provocado pela alta taxa de mortalidade.
- C) a pequena proporção de idosos no conjunto da população.
- D) a forte concentração da população em áreas rurais.
- E) o fraco crescimento demográfico nas áreas mais pobres.

---

### COMENTÁRIO:

A alta proporção da população vivendo abaixo da linha da pobreza é uma das metas específicas dos ODS, alinhada principalmente ao ODS 1, que visa "Acabar com a pobreza em todas as suas formas, em todos os lugares". Se o cumprimento desse objetivo está seriamente comprometido, isso sugere que a redução da pobreza não está ocorrendo conforme esperado.

A pobreza é uma questão crucial no desenvolvimento sustentável, e seu comprometimento pode ter implicações abrangentes em diversas áreas, incluindo saúde, educação e qualidade de vida. Portanto, a alternativa A é consistente com a compreensão geral dos desafios enfrentados pelo Brasil em relação aos Objetivos de Desenvolvimento Sustentável.

**GABARITO: A.**

---

**49) Um grande desafio do governo é a implementação do novo Ensino Médio, que será iniciada ainda este ano [2022]. Houve todo um preparo para essa implementação. Já foram investidos mais de R\$ 2 bilhões nessa mudança. Até o momento, não prevemos nenhuma alteração no cronograma.**

(Agência Brasil. <https://bit.ly/3JWIpqe>. 28.04.2022)

**Uma das mudanças trazidas pelo novo modelo de Ensino foi**

- A) a introdução de duas línguas estrangeiras no currículo.
- B) a criação de área de estudos denominada Ciências Sociais Aplicadas.
- C) o aumento da carga horária para mil horas letivas anuais.
- D) a redução da flexibilidade curricular existente anteriormente.
- E) a carga horária híbrida com 40% de ensino à distância.

---

### COMENTÁRIO:

O excerto acima menciona que um grande desafio do governo é a implementação do novo Ensino Médio e que já foram investidos mais de R\$ 2 bilhões nessa mudança. O fato de não preverem nenhuma alteração no cronograma sugere que as mudanças planejadas, incluindo o investimento significativo, estão sendo mantidas.

A opção C é a única que se alinha diretamente a uma mudança quantitativa no sistema educacional, indicando um aumento na carga horária para mil horas letivas anuais. Esse aumento na carga horária pode ter implicações importantes no currículo e na estrutura do Ensino Médio, refletindo uma abordagem mais ampla e aprofundada no processo educacional. Portanto, a escolha da opção C é consistente com a ênfase dada ao investimento e aos desafios na implementação do novo modelo de Ensino Médio.

## Simulado 01: PM-SP (Soldado)

**GABARITO: C.**

50) Esta fonte ainda dá seus primeiros passos no Brasil, mas diferentes iniciativas podem colocar o país na rota mundial de produção da substância, vista como uma das principais alternativas para a redução do uso de fontes com carbono, o principal vilão do efeito estufa e do aquecimento global.

(G1. <https://glo.bo/3RJJpjj>. 08.08.2022. Adaptado)

A notícia faz referência

- A) à energia geotérmica gerada pelo calor proveniente do interior da Terra.
- B) ao hidrogênio azul produzido a partir do gás natural.
- C) à energia maremotriz produzida a partir do movimento das ondas e marés.
- D) à energia fotovoltaica gerada a partir da radiação solar.
- E) ao hidrogênio verde produzido a partir de fontes de energia limpa.

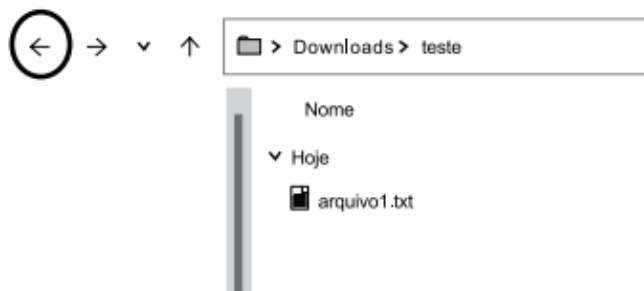
**COMENTÁRIO:**

O hidrogênio verde é produzido por meio de eletrólise utilizando fontes de energia renovável, como solar ou eólica, o que o diferencia do hidrogênio azul, que é produzido a partir do gás natural com captura e armazenamento de carbono (CCS). Nosso gabarito, portanto, é alternativa E.

**GABARITO: E.**

### INFORMÁTICA

51) Um usuário acessou a pasta Área de Trabalho, por meio do Explorador de Arquivos do MS-Windows 10, ambos em configuração padrão. Em seguida, clicou com o botão principal do mouse no nome de uma pasta chamada teste, levando à exibição vista na imagem a seguir.



A partir daí, ao acionar o ícone marcado com um círculo na imagem,

- A) o arquivo1.txt será movido para a pasta Downloads.
- B) o arquivo1.txt será copiado para a pasta Downloads.
- C) o arquivo1.txt será movido para a pasta Área de Trabalho.
- D) a visualização voltará para a pasta Área de Trabalho.
- E) a visualização passará para a pasta Downloads.

**COMENTÁRIO:**

A seta apontando para trás comumente simboliza a ação de retroceder para a pasta anterior na estrutura de pastas, sendo que, na situação descrita, essa pasta é a Área de Trabalho. Diante disso, a alternativa correta é letra D.

**GABARITO: D.**

52) Tem-se uma tabela de 2 linhas e 2 colunas, criada no Microsoft Word 2016, em sua configuração padrão. Com o cursor do mouse na primeira célula da tabela, o usuário pressionou a tecla TAB 4 vezes.

Como resultado dessa ação, a tabela contém

- A) 2 linhas e 2 colunas.

## Simulado 01: PM-SP (Soldado)

- B) 2 linhas e 3 colunas.
- C) 3 linhas e 2 colunas.
- D) 4 linhas e 1 colunas.
- E) 4 linhas e 2 colunas.

---

### COMENTÁRIO:

Ao pressionar a tecla TAB na célula inicial da tabela no Microsoft Word 2016, o cursor avança para a próxima célula à direita na mesma linha. Se o usuário pressionou a tecla TAB 4 vezes, o cursor terá se movido para a quarta célula na mesma linha. Nesse caso, a tabela originalmente teria 2 colunas, e o movimento com a tecla TAB adicionaria mais duas colunas, totalizando 4 colunas. Isso porque a tabela originalmente tinha 2 linhas, e o uso do TAB adicionou 2 colunas, resultando em 3 linhas e 4 colunas. Assim, o gabarito de nossa questão é alternativa C

**GABARITO: C.**

---

**53)Um assistente social, para ficar sempre sabendo do que ocorre nas mediações entre tutores sob sua responsabilidade, solicitou que todas as mensagens trocadas entre tutores e mediadores incluam seu próprio e-mail (do assistente social) na mensagem a ser enviada, de forma que os demais participantes das trocas de e-mails não saibam que ele (o assistente social) está recebendo as mensagens.**

Para atender ao descrito no enunciado, o e-mail do assistente social deve ser adicionado no seguinte campo:

- A) Cco
- B) Para
- C) Cc
- D) Anexo
- E) Encaminhar

---

### COMENTÁRIO:

- O campo "Cco" (Com Cópia Oculta) permite enviar cópias da mensagem para destinatários adicionais sem que os demais participantes vejam os endereços adicionados nesse campo.
- Adicionando o e-mail do assistente social no campo Cco, as mensagens serão encaminhadas para ele sem que os outros participantes da troca de e-mails saibam que ele está recebendo as mensagens.
- Essa prática é útil para o assistente social se manter informado sobre as mediações sem interferir na comunicação entre tutores e mediadores.

Diante do exposto, a alternativa correta é a letra A.

**GABARITO: A.**

---

**54)O armazenamento em nuvem é um modelo de computação que possibilita ao usuário armazenar e compartilhar dados e arquivos na internet por meio de um provedor de serviços em nuvem, que pode ser acessado por meio da internet pública ou de uma conexão de rede privada dedicada. O serviço de armazenamento em nuvem disponibilizado com o pacote Microsoft 365 é o**

- A) NetFlow.
- B) PowerPoint.
- C) OpenShift.
- D) OneDrive.
- E) Google Drive.

---

### COMENTÁRIO:

O OneDrive é o serviço de armazenamento em nuvem oferecido pela Microsoft como parte do pacote Microsoft 365 (anteriormente conhecido como Office 365). Ele permite que os usuários armazenem, acessem e compartilhem documentos e arquivos pela internet. Algumas características do OneDrive incluem:

\*Armazenamento Online: Os usuários podem armazenar seus documentos, fotos, vídeos e outros arquivos na nuvem, proporcionando acesso a esses dados de qualquer dispositivo conectado à internet.

\*Colaboração em Tempo Real: O OneDrive facilita a colaboração em documentos, permitindo que várias pessoas editem os mesmos arquivos simultaneamente. As alterações são refletidas em tempo real.

## Simulado 01: PM-SP (Soldado)

\*Sincronização: Os arquivos armazenados no OneDrive podem ser sincronizados entre vários dispositivos. Isso garante que a versão mais recente do arquivo esteja disponível em todos os dispositivos do usuário.

\*Compartilhamento de Arquivos: Os usuários podem compartilhar arquivos e pastas específicos com outras pessoas, seja permitindo apenas visualização ou concedendo permissões de edição.

\*Integração com Aplicativos Microsoft: O OneDrive é integrado aos aplicativos do Microsoft 365, como Word, Excel e PowerPoint, facilitando a abertura, edição e salvamento de documentos diretamente na nuvem.

Grosso modo, o OneDrive é uma solução abrangente de armazenamento em nuvem que oferece funcionalidades importantes para indivíduos e organizações que utilizam os serviços da Microsoft.

Assim, a alternativa correta é opção D.

**GABARITO: D.**

---

**55)Um usuário deseja buscar na internet, por meio do Google.com, em sua configuração padrão, por arquivos em PDF que contenham a palavra biblioteconomista.**

A expressão de busca que deve ser usada para atender ao enunciado é:

- A) "PDF" biblioteconomista
- B) biblioteconomista in-site PDF
- C) biblioteconomista in-title PDF
- D) "biblioteconomista" filetype:pdf
- E) biblioteconomista filetype:pdf"

**COMENTÁRIO:**

"biblioteconomista": O termo entre aspas duplas indica que a palavra exata "biblioteconomista" deve estar presente nos resultados da pesquisa.

filetype:pdf: Essa parte da expressão é um operador de pesquisa que instrui o Google a buscar apenas por arquivos com a extensão .pdf. Dessa forma, os resultados serão restritos a documentos em formato PDF que contenham a palavra "biblioteconomista".

Portanto, essa expressão garante que a busca no Google seja específica para documentos em PDF que incluam a palavra exata "biblioteconomista". Assim, a alternativa correta é a letra D.

**GABARITO: D.**

---

### NOÇÕES DE ADMINISTRAÇÃO PÚBLICA

**56)Em relação à temática da Administração Pública na Constituição da República Federativa do Brasil, é correto afirmar que**

- A) o prazo de validade do concurso público será de até três anos, prorrogável uma vez, por igual período.
- B) é garantido ao servidor público, civil ou militar, o direito à livre associação sindical.
- C) os vencimentos dos cargos do Poder Legislativo e do Poder Judiciário não poderão ser superiores aos pagos pelo Poder Executivo.
- D) é lícita a vinculação ou equiparação de quaisquer espécies remuneratórias para o efeito de remuneração de pessoal do serviço público.
- E) é vedada a acumulação remunerada de cargos públicos, inclusive a de dois cargos de professor.

**COMENTÁRIO:**

Alternativa A está incorreta. O prazo de validade do concurso público será de até dois anos, prorrogável uma vez, por igual período. Vejamos:

Art. 37. A administração pública direta e indireta de qualquer dos Poderes da União, dos Estados, do Distrito Federal e dos Municípios obedecerá aos princípios de legalidade, impessoalidade, moralidade, publicidade e eficiência e, também, ao seguinte:

(...)

III - o prazo de validade do concurso público será de até dois anos, prorrogável uma vez, por igual período;

## Simulado 01: PM-SP (Soldado)

Alternativa B está incorreta. O direito à livre associação sindical é assegurado ao servidor público civil.

Art. 37. A administração pública direta e indireta de qualquer dos Poderes da União, dos Estados, do Distrito Federal e dos Municípios obedecerá aos princípios de legalidade, impessoalidade, moralidade, publicidade e eficiência e, também, ao seguinte:

(...)

VI - é garantido ao servidor público civil o direito à livre associação sindical;

Alternativa C está correta.

Art. 37. A administração pública direta e indireta de qualquer dos Poderes da União, dos Estados, do Distrito Federal e dos Municípios obedecerá aos princípios de legalidade, impessoalidade, moralidade, publicidade e eficiência e, também, ao seguinte:

(...)

XII - os vencimentos dos cargos do Poder Legislativo e do Poder Judiciário não poderão ser superiores aos pagos pelo Poder Executivo;

Alternativa D está errada. Pelo contrário, a Constituição federal veda, expressamente, a vinculação ou equiparação de quaisquer espécies remuneratórias para o efeito de remuneração de pessoal do serviço público.

Art. 37. A administração pública direta e indireta de qualquer dos Poderes da União, dos Estados, do Distrito Federal e dos Municípios obedecerá aos princípios de legalidade, impessoalidade, moralidade, publicidade e eficiência e, também, ao seguinte:

(...)

XIII - é vedada a vinculação ou equiparação de quaisquer espécies remuneratórias para o efeito de remuneração de pessoal do serviço público;

Alternativa E está errada. A regra é a vedação à acumulação remunerada de cargos públicos, porém a de dois cargos de professor é uma das exceções a esta disposição constitucional.

Art. 37. A administração pública direta e indireta de qualquer dos Poderes da União, dos Estados, do Distrito Federal e dos Municípios obedecerá aos princípios de legalidade, impessoalidade, moralidade, publicidade e eficiência e, também, ao seguinte:

(...)

XVI - é vedada a acumulação remunerada de cargos públicos, exceto, quando houver compatibilidade de horários, observado em qualquer caso o disposto no inciso XI:

a) a de dois cargos de professor;

b) a de um cargo de professor com outro técnico ou científico;

c) a de dois cargos ou empregos privativos de profissionais de saúde, com profissões regulamentadas;

**GABARITO: C.**

---

## Simulado 01: PM-SP (Soldado)

57) Leia a seguinte matéria:

São Paulo, sábado, 18 de novembro de 2006 FOLHA DE S. PAULO **cotidiano**

[Texto Anterior](#) | [Próximo Texto](#) | [Índice](#)

### OEA condena Brasil por não punir caso de racismo

É a primeira vez que um país do continente é responsabilizado pelo crime

Organização acusa governo de não ter investigado denúncia de empregada doméstica que foi barrada em emprego por ser negra

Flávio Florido/Folha Imagem



Simone André Diniz, que levou denúncia de racismo à OEA

“Ao se candidatar a uma vaga de empregada doméstica em São Paulo, Simone foi rejeitada por não atender a um requisito racista: o contratante dava preferência a pessoas de cor branca, conforme anúncio publicado em jornal. O caso foi denunciado à Delegacia de Investigações de Crimes Raciais, onde foi instaurado Inquérito Policial. Apesar das provas irrefutáveis, o Ministério Público do Estado de São Paulo requereu o arquivamento do inquérito sob o argumento que o caso não configurava crime de racismo. Argumentação acolhida pelo Poder Judiciário. O caso continua sem resposta por parte da Justiça brasileira” (Fonte: <https://www.opendemocracy.net/>, de 27/07/2020). O caso Simone André Diniz apresenta um caso de impunidade, pois, conforme o disposto na Constituição da República Federativa do Brasil, a prática do racismo:

- A) Não constitui crime.
- B) É motivo para banimento e extradição.
- C) Constitui crime inafiançável e imprescritível, sujeito à pena de reclusão.
- D) É livre de manifestação de qualquer cidadão.
- E) Constitui uma infração leve, sendo concedido o pagamento de fiança.

#### COMENTÁRIO:

Além de constituir crime, a prática do racismo é crime inafiançável e imprescritível, sujeito à pena de reclusão, conforme determina a constituição federal. Vejamos:

Art. 5º Todos são iguais perante a lei, sem distinção de qualquer natureza, garantindo-se aos brasileiros e aos estrangeiros residentes no País a inviolabilidade do direito à vida, à liberdade, à igualdade, à segurança e à propriedade, nos termos seguintes:  
(...)

XLII - a prática do racismo constitui crime inafiançável e imprescritível, sujeito à pena de reclusão, nos termos da lei;

**GABARITO: C.**

58) De acordo com a Lei Federal nº 12.527/2011, conhecida como Lei de Acesso à Informação, os documentos cuja divulgação ponha em risco a segurança da sociedade e do Estado, bem como aqueles

## Simulado 01: PM-SP (Soldado)

necessários ao resguardo da inviolabilidade da intimidade, da vida privada, da honra e da imagem das pessoas são originalmente

- A) ostensivos.
- B) sigilosos.
- C) históricos.
- D) permanentes.
- E) oficiais.

---

### COMENTÁRIO:

A Partir do art.23, a Lei 12.527/11 classifica a informação quanto ao grau e prazos de sigilo. Dentre estão informações sigilosas, estão incluídas consideradas imprescindíveis à segurança da sociedade ou do Estado bem como aqueles necessários ao resguardo da inviolabilidade da intimidade, da vida privada, da honra e da imagem das pessoas. Vejamos:

Art. 23. São consideradas imprescindíveis à segurança da sociedade ou do Estado e, portanto, passíveis de classificação as informações cuja divulgação ou acesso irrestrito possam:

(...)

Art. 31. O tratamento das informações pessoais deve ser feito de forma transparente e com respeito à intimidade, vida privada, honra e imagem das pessoas, bem como às liberdades e garantias individuais.

§ 1º As informações pessoais, a que se refere este artigo, relativas à intimidade, vida privada, honra e imagem:

Assim, a alternativa correta é a opção B.

**GABARITO: B.**

---

### 59)No que concerne à Lei de Acesso à Informação, Lei Federal nº 12.527/ 2011, é correto afirmar que

- A) assegura o direito fundamental de acesso à informação em conformidade com as diretrizes de observância da publicidade como preceito geral e do sigilo como exceção e divulgação de informações, exclusivamente mediante solicitações.
- B) estão subordinados ao regime desta lei, os órgãos públicos integrantes da administração direta dos Poderes Executivo, Legislativo, excluindo as Cortes de Contas, e incluindo o Judiciário, o Ministério Público, as autarquias, as fundações e as empresas públicas.
- C) é dever do Estado garantir o direito de acesso à informação, que será franqueada, mediante procedimentos objetivos e ágeis, de forma transparente, clara e em linguagem de fácil compreensão.
- D) compreende o direito de se obter orientação sobre os procedimentos para acesso, o local onde poderá ser obtida a informação contida em registros ou apenas nos documentos recolhidos em arquivos públicos.
- E) compreende o acesso às informações referentes a projetos de pesquisa e desenvolvimento científicos ou tecnológicos independentemente do sigilo imprescindível à segurança da sociedade e do Estado.

---

### COMENTÁRIO:

Alternativa A está errada. De acordo com a Lei 12.527/11, independentemente de solicitação, deverá haver divulgação de informações de interesse público. Vejamos:

Art. 3º Os procedimentos previstos nesta Lei destinam-se a assegurar o direito fundamental de acesso à informação e devem ser executados em conformidade com os princípios básicos da administração pública e com as seguintes diretrizes:

(...)

II - divulgação de informações de interesse público, independentemente de solicitações

Alternativa B está errada. O equívoco desta assertiva está em excluir a Corte de Contas da subordinação à Lei de acesso à informações.

Art. 1º Esta Lei dispõe sobre os procedimentos a serem observados pela União, Estados, Distrito Federal e Municípios, com o fim de garantir o acesso a informações previsto no [inciso XXXIII do art. 5º](#), no [inciso II do § 3º do art. 37](#) e no [§ 2º do art. 216 da Constituição Federal](#).

Parágrafo único. Subordinam-se ao regime desta Lei:

I - os órgãos públicos integrantes da administração direta dos Poderes Executivo, Legislativo, incluindo as Cortes de Contas, e Judiciário e do Ministério Público;

II - as autarquias, as fundações públicas, as empresas públicas, as sociedades de economia mista e demais entidades controladas direta ou indiretamente pela União, Estados, Distrito Federal e Municípios.

## Simulado 01: PM-SP (Soldado)

Alternativa C está correta.

Art. 5º: É dever do Estado garantir o direito de acesso à informação, que será franqueada, mediante procedimentos objetivos e ágeis, de forma transparente, clara e em linguagem de fácil compreensão.

Alternativa D está errada. O direito à informação não está restrito aos documentos recolhidos em arquivos públicos.

Art. 7º O acesso à informação de que trata esta Lei compreende, entre outros, os direitos de obter:

II - informação contida em registros ou documentos, produzidos ou acumulados por seus órgãos ou entidades, recolhidos ou não a arquivos públicos;

Alternativa E está errada.

Art. 7º O acesso à informação de que trata esta Lei compreende, entre outros, os direitos de obter:  
(...)

§ 1º O acesso à informação previsto no caput não compreende as informações referentes a projetos de pesquisa e desenvolvimento científicos ou tecnológicos cujo sigilo seja imprescindível à segurança da sociedade e do Estado.

**GABARITO: C.**

---

**60) Segundo a Lei nº 12.527/2011, um dos objetivos do Núcleo de Segurança e Credenciamento (NSC), instituído no âmbito do Gabinete de Segurança Institucional da Presidência da República, é**

- A) promover e propor a regulamentação do credenciamento de segurança de pessoas físicas, empresas, órgãos e entidades para tratamento de informações sigilosas.
- B) requisitar da autoridade, que classificar a informação como ultrassecreta e secreta, esclarecimento sobre o conteúdo parcial ou integral da informação.
- C) rever a classificação de informações ultrassecretas ou secretas, de ofício ou mediante provocação de pessoa interessada, observado o disposto no art. 7º e demais dispositivos dessa Lei.
- D) indicar as razões de fato ou de direito da recusa, total ou parcial, de acesso pretendido por qualquer pessoa física ou jurídica.
- E) possibilitar a gravação de relatórios mensais ou anuais em diversos formatos eletrônicos, inclusive abertos e não proprietários, tais como planilhas e texto, de modo a facilitar a análise das informações solicitadas.

**COMENTÁRIO:**

Art. 37. É instituído, no âmbito do Gabinete de Segurança Institucional da Presidência da República, o Núcleo de Segurança e Credenciamento (NSC), que tem por objetivos:

I - promover e propor a regulamentação do credenciamento de segurança de pessoas físicas, empresas, órgãos e entidades para tratamento de informações sigilosas;

**GABARITO: A.**

---